

2024 年浙江省高考历史模拟卷

命题：绍兴市第一中学

考生须知：

1. 本卷满分 100 分，考试时间 90 分钟；
2. 答题前，在答题卷指定区域填写班级、姓名、试场号、座位号及准考证号。
3. 所有答案必须写在答题纸上，写在试卷上无效；
4. 考试结束后，只需上交答题纸。

选择题部分

一、选择题 I（本大题共 15 小题，每小题 2 分，共 30 分。每小题列出的四个备选项中只有一个是符合题目要求的，不选、多选、错选均不得分）

1. 据考古发现，晋南地区的陶寺遗址由周长约 7 公里的夯土城墙包围，城内面积约 280 万平方米，城内有大型的宫殿区和墓葬区，繁荣异常。从公元前 2300 年开始，陶寺先民们在这座古城中生活了近 400 年。1984 年，考古工作者在陶寺出土的一块陶片上发现了疑似文字的符号，有人将其解读为“文尧”。下列关于陶寺遗址说法错误的是

- A. 处于万邦时代，具备国家的初始形态
B. 属于新石器时代早期的父系氏族社会
C. 大约相当于五帝后期，龙山文化时代
D. 私有制已经产生，阶级分化日益明显

2. 《汉书·食货志》记载：“以谷贱时增其贾而采，以利农，谷贵时减贾而臬，名曰常平仓。民便之。”关于材料中提到的常平仓，下列说法正确的是

- ①体现了中国古代的粮食安全观 ②以民间组织为主展开社会救济
③百姓收获时按贫富分三等出粮 ④政府调控粮价以维护社会秩序

- A. ①② B. ②③ C. ③④ D. ①④

3. “未有天地之先，毕竟是先有此理。……宇宙之间，一理而已，天得之而为天，地得之而为地，而凡生于天地之间者，又各得之以为性……父子有亲，君臣有义之类，无非这理……天理，只是仁、义、礼、智之总名，仁、义、礼、智便是天理之件数。”由此可知，理学的创新在于

- A. 将儒学思想上升到哲学化的高度
B. 主张通过道德修养克服过度欲望
C. 理学思想带有主观唯心主义倾向
D. 开始融合佛道思想解释儒家义理

4. 明代陈侃在《使琉球录》中记载：“琉球贡物，唯马及硫黄、螺壳、海巴、牛皮、磨刀石乃其土产。”而据《明会典》载，凡同样的贡品，明廷赐给琉球的赏钱往往高出其他规定许多，如锡每百斤赏五百文，赏给琉球则高达八贯，这反映了明朝


- A. 开放的对外贸易政策
B. 国家垄断了中外贸易
C. 厚往薄来的贡赐贸易
D. 协和万邦的友好外交

5. 在南京，金陵关税务司韩森满意地指出：“我相信外国人在南京比在别处还安全，虽然有排外的揭帖，但一贴上就被扯下来，换上意义相反的告示。”在湖广，张之洞断然下令：“已添重兵，出告示飭州县禁谣拿匪，敢有生事，立即正法：所有洋商教士，力任保护。”材料中张之洞等人的举动旨在

- A. 动摇晚清政府政治统治的根基
B. 勾结外部势力镇压义和团运动
C. 保护人民财产和维护社会稳定
D. 维护西方列强侵略中国的利益

6. 右图是一份民国时期的“省县公职候选人考试及格证书”，正上方印有青天白日徽，其正文自右向左竖写，内容如下：“张泽民，年叁拾叁岁，男性，江西省武宁县公民，应甲种公职候选人考试，经检核及格，依省县公职候选人考试法第十条之规定，合行发给及格证书。”据图可知，当时

- A. 北洋政府铨叙局颁发此证
B. 国民政府公务员制度规范
C. 甄别审查的措施非常严格
D. 民国政府废除了科举制度



7. 1951 年，《中华人民共和国海关进出口税则》实施，但存在“总体关税水平过高，税率结构不尽合理，税则的商品分类目录不适应对外经济、贸易和科学、技术交流的需要”等问题，1985 年颁布的同名税则对这些方面进行了修改，主要是改变商品分类目录，调整进口税率，这些调整

- A. 适应了社会主义现代化建设新时期的需要
B. 真正收回关税自主权，统一全国关税制度
C. 对调节个人收入，实现社会稳定发挥作用

D.正式废除国内关税，实行统一的国境关税

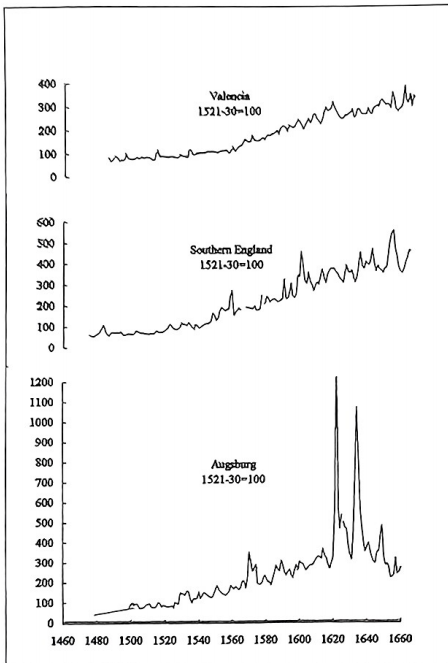
8.1978年7月上旬，习仲勋考察了逃港现象严重的宝安县。在沙头角中英街，习仲勋看到香港那边车水马龙，宝安这边冷落萧条。一河之隔，生活水平一个天上一个地下。而到了1980年，这里的逃港现象不仅消失了，外逃人员又成批地回来了，出现这种变化的原因是

- A.国家在厦门设立了经济特区
- B.采取多种形式吸引利用外资
- C.建设社会主义市场经济体制
- D.全方位对外开放新格局形成

9.公元前198年，巴勒斯坦被塞琉古王国占领，后犹太祭司马卡比发动起义。马卡比在战斗关键时刻鼓励士兵道：“我们是在为捍卫自己的生命与神圣的宗教而战斗……全能的上帝就会粉碎我们的敌人，因此用不着害怕他们。”公元前165年，犹太人基本赢得独立。这表明

- A.西亚文化得以继续保持影响
- B.战争客观上推动不同文化交流
- C.亚历山大帝国逐渐走向分裂
- D.被征服地区普遍反对希腊文化

10.下图是1457年—1600年西班牙、英格兰和德意志的商品价格，这三个国家的商品价格年度指数根据共同基数（1521-1530年=100）进行换算。对该图解读正确的是



- A.表明商业经营方式发生重大变化
- B.以欧洲为中心的世界市场初步形成
- C.推动了欧洲资本主义萌芽的出现
- D.源于大量贵金属源源不断流入欧洲

11.1806年9月，普鲁士参加了英俄普组成的第四次反法联盟，第二年俄普联军战败。普鲁士被迫签订和约，失去一半以上国土并支付巨额战争赔款。普鲁士失去独立和强国地位，陷入全面崩溃境地。为此，普鲁士的一些自由主义贵族，寻求变革之路，促成了德意志民族反对异族统治和压迫的民族解放战争。这表明

- A.新的国际关系体系正在形成
- B.拿破仑战争推动欧洲政治文化的重构
- C.自由平等思想在欧洲广泛传播
- D.德意志从专制王权国家发展为民族国家

12.茶是中国先民的伟大发现，中国是世界茶文化的发祥地。最初，中国茶主要在中国周边传播，日本学习、改进中国的饮茶方法，形成独具特色的茶道。茶叶是丝绸之路上的重要商品，先传入阿拉伯地区，再经由阿拉伯人传入欧洲。17世纪初，茶叶进入欧洲市场。19世纪初，英国大量进口中国茶叶，为扭转对华贸易逆差，向中国走私鸦片。据此判断，下列说法正确的是

- ①茶叶贸易丰富了当地人的精神生活
 - ②阿拉伯人垄断了亚欧之间的贸易
 - ③新航路开辟推动茶叶进入欧洲市场
 - ④鸦片走私是英国殖民侵略的手段
- A.①②③
 - B.②③④
 - C.①②④
 - D.①③④

13.1845年，马克思在《前进报》中对某一事件给予了极高的评价。他指出该运动的过程中，他们不仅毁掉机器，而且毁掉账簿和财产契据；不仅打击明显的敌人——工业企业的老板，而且打击隐蔽的敌人——银行家，一开始就把整个资产阶级当做自己的敌人。据此可知，该事件是

- A.拉丁美洲民族独立运动
- B.巴黎公社宣告成立
- C.西里西亚纺织工人起义
- D.国际工人协会成立

14.第一次世界大战后，“南非原住民民族大会”向英国国王请愿，要求在凡尔赛会议上有代表，提出和平的

原则之一就是民族自决的权利和不受压迫的自由。扎格鲁尔等民族主义代表组织“埃及代表团”，希望旁听巴黎和会，将独立要求诉诸国际会议。战后关于民族自决的谈论，也在阿尔及利亚和突尼斯激起了民族主义运动。下列项中，对上述材料理解正确的是

- A. 民族自决原则是非洲争取独立、民主的斗争武器
- B. 英、法、比、葡等国在非洲的殖民帝国彻底崩溃
- C. 第一次世界大战促进非洲国家民族意识开始觉醒
- D. 埃及民族独立运动是世界反法西斯战争的一部分

15. 阅读下表，据此可知跨国公司

1985—2010年跨国公司海外分支机构经营情况

年份	海外分支机构总产值占GDP的比例	海外分支机构销售额占GDP的比例	海外分支机构出口总额占全球出口额的比例
1985年	4.77%	20.02%	30.30%
1990年	6.27%	23.56%	26.41%
1995年	5.99%	27.63%	14.86%
2000年	9.63%	47.70%	44.67%
2005年	9.03%	46.18%	32.31%
2010年	10.24%	39.98%	33.04%

——根据卢进勇、杨国亮、杨立强等编著《中外跨国公司发展史》编制

- A. 使国际分工进一步向深度发展
- B. 成为经济全球化主要推动力量
- C. 在经济全球化中扮演重要角色
- D. 成为经济全球化进程中的主导趋势

二、选择题II（本大题共6小题，每小题3分，共18分。每小题列出的四个备选项中只有一个是符合题目要求的，不选、多选、错选均不得分）浙考神墙750

16. 成书于1406年的《克拉维约东使记》记载，当西班牙卡斯蒂利亚王国的宫廷大臣、使节克拉维约来到中亚帖木儿帝国的首都撒马尔罕时，打听到一支由800匹骆驼组成的商队不久之前从中国来到此地，他也因此得知撒马尔罕距离中国首都的路程是6个月。克拉维约在这次外出游历的旅程中，不可能

- A. 遇到来自阿拉伯帝国的商人
- B. 了解明与帖木儿帝国的交往
- C. 比马可·波罗更晚前往东方
- D. 见证当时丝路上的贸易往来

17. 由于世界经济大恐慌的爆发，中国进入了经济萧条时期，随即美国的购银政策更进一步造成了金融恐慌，国民政府对外求援，但因英、美、日三国的冲突而受阻。白银出口征税与改组中国、交通二行又不能根本解决问题，情形日益恶化，面临财政危机的国民政府，最后不得不实施改革，关于这一时期的改革，下列说法正确的是

- A. 承认白银的法定货币地位
- B. 铸造银元以之为法定货币
- C. 国民政府实行了法币改革
- D. 币制改革开始发行金圆券

18. 如图是1921年1月14日，《申报》第四张十四版刊登的一副时事漫画，画面中一个幼童站在中间，他双手与右边男人握着，男人穿着军装，胸前写有“内忧”，漫画左边是一位白发、高鼻梁、穿着黑礼服的洋人，胳膊上写有“外患”。关于这幅漫画，下列说法正确的是

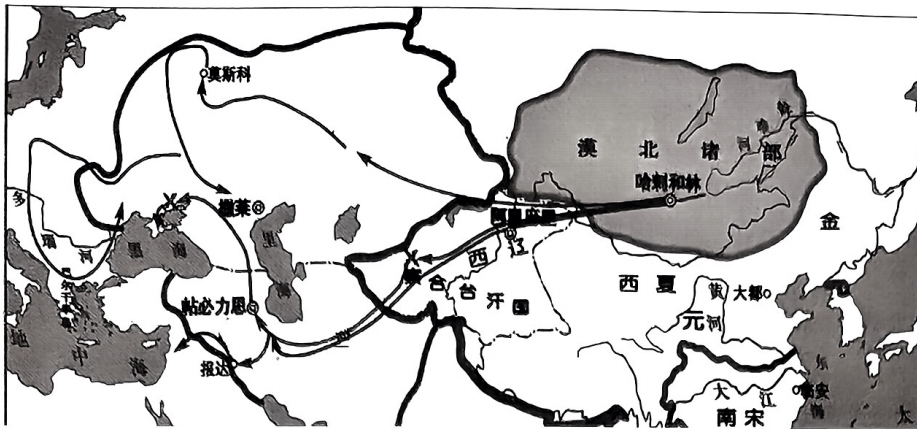
- A. “内忧”指袁世凯统治下军阀割据
- B. “外患”指日本等列强的侵略加深
- C. 由此开启了国共合作的国民大革命
- D. 用小孩隐喻中国引起读者危机意识



19. 有学者认为，希腊罗马文化后来分裂成三种文化，并分别在其中存活。这三种文化分别是：西边的罗马天主教文化、东边的东罗马帝国文化与南边的阿拉伯文化。在中世纪末期，这三种文化在意大利北部交汇融合，“文艺复兴时期”就逐渐开始了。该学者旨在说明

- A. 古希腊、罗马文化是欧洲文化的源头
- B. 阿拉伯人成为东西方文化交流的桥梁
- C. 中古西欧继承了古代希腊、罗马文化
- D. 文化传承是文化复兴产生的根本原因

20. 观察下面示意图，图中所示路线反映的史实对欧洲的影响有



- ①基辅罗斯被征服，成为钦察汗国臣属 ②以莫斯科公国为中心的统一国家建立
③两位欧洲传教士到达漠北与蒙古交涉 ④日耳曼人陆续进入罗马帝国并建立国家
- A. ①④ B. ②③ C. ②④ D. ①③

21. 梁启超指出“所谓‘首出的人格者’，表面上虽若一切史迹纯为彼一人或数人活动之结果，然不能谓无多数人的意识在其背后。实则此一人或数人之个性，渐次侵入或铸入于全社会而易其形与质。社会多数人或为积极的同感，或为消极的盲从，而个人之特性，寔假遂变为当时此地之民众特性——亦得名之曰集团性或时代性。非有集团性或时代性之根抵而能表现出一史迹，末之前闻。”这段话旨在

- A. 阐明英雄人物的一切创造建立在人民群众的基础之上
B. 强调英雄人物在人类社会历史发展中具有决定性作用
C. 突出英雄人物在历史上发挥的作用要比一般个人要大
D. 揭示人人皆可创造历史，都在历史上起到一定的作用

非选择题部分

三、非选择题（本大题共4小题，其中第22小题14分，第23小题6分，第24小题20分，第25小题12分共52分）浙考神墙750

22. 法律是治国之重器，从古至今，中国一直是一个重视法治的国度。（14分）

材料一

《大明律》吸收了《唐六典》《元典章》以职官分类编制法典的长处，创立了以六部分类的新体例。《大明律》共七篇，“名例”以下，分别为吏律、户律、礼律、兵律、刑律和工律六篇，其在定罪量刑上侧重尊君。朱元璋还创造了“教民榜文”之类的普及政教法令于民间的制度，让“里老人”宣讲简明扼要的“圣谕”。清入关初，曾依照《明律》制定法律，至乾隆时期，修成了集历代封建法律之大成的《大清律例》。乾隆在《大清律例》序文中说，法律“非徒示之禁令，使知所畏惧”，更在于“弼成教化，以洽其好生之德”。清代还制定了《蒙古律例》、《回疆则例》等，使司法管辖深入边疆少数民族地区。

——摘编自朱勇主编《中国法制史》

材料二

从20世纪90年代起，我国全面推进社会主义市场经济建设，对法治建设提出了更高的要求……早期的民事单行法如婚姻法、继承法、担保法、合同法等，在经济社会发展中发挥了重要作用，但由于这些法律相对比较散乱、零碎甚至有冲突，无法像民法典那样发挥出整体效应，进入21世纪，随着中国经济与国际接轨，民法典的起草加快。2017年3月15日十二届全国人大五次会议通过《中华人民共和国民法总则》，2020年5月28日，《中华人民共和国民法典》已由中华人民共和国第十三届全国人民代表大会第三次会议通过，并决定自2021年1月1日起施行。

——摘编自梁慧星《中国民法典编纂的几个问题》

- (1) 根据材料一并结合所学，概括明清法律的特点，并分析其历史意义。（7分）
(2) 根据材料二并结合所学，列举我国90年代法治建设的成就，并分析推动新中国民法典最终颁布的条件。（7分）

23. 阅读材料，回答问题。（6分）

晚清时期，在新的时代条件下，选官制度发生变革。1904年初，清政府颁布了《奏定学堂章程》，其统一的癸卯学制是近代中国第一个由中央政府颁布且由政府督导施行的全国性法定学制系统，办学宗旨是“以忠孝为本，以中国经史文学为基……以西学沦其知识，练其艺能，务期他日成才，各适实用。”《章

程》对学校体系、课程设置、管理通则等做了具体规定，直接把“尚武”与“忠君”“尊孔”“尚公”等内容定为教育宗旨，指出学堂应“陈述黄帝尧舜以来历朝治乱兴衰大略，俾知古今世界之变迁……以养成国民自强之志气，忠爱之性情。”《章程》规定了学校教育中几何代数、植物动物、理化、法制理财、体操等课程的课时，在中学堂 180 个课时中，读经讲经以 45 课时居于榜首，还规定自高等小学以上，毕业考试结果分最优、优、中、下、最下五等，一般中等以上者都获相应奖励出身（大致可分为翰林、进士、举人、贡生、生员五级），并被授以官职或得以升学。

——摘编自《中国近代教育史》

根据材料并结合所学，对晚清时期颁布的《奏定学堂章程》进行评述。（6分）

24.近代以来法国在国际关系中居于重要地位。阅读材料，回答问题。（20分）

材料一

法国启蒙运动兴起于内忧外患的社会背景之下。在英国已经开始进行工业革命之时，法国的封建专制主义则在路易十四的统治下达到了顶峰。在太阳王执政时期，对内大权独揽，对外扩张以争夺欧洲霸权。对外战争的巨大消耗也使得法国封建经济濒临崩溃，与之形成鲜明对比的是资本主义经济的迅速发展。资产阶级空有经济实力，却无法得到相应的政治权利，第三等级与特权阶级的矛盾日趋尖锐。而文艺复兴以来自然科学的发展使得教会的说教不攻自破，英国光荣革命的胜利更加鼓舞了法国资产阶级的信心。于是，声势浩大的思想启蒙运动在封建势力根深蒂固的法国发展开来。面对内忧外患的国情，启蒙思想家们积极宣传“理性”与“科学”作为衡量一切、判断一切的尺度，希望能够推翻旧制度，建立新体制，并提出了众多设想。而且大多数思想家都将研究的目光投向了东方，希望借鉴东方文化为自己的民族精神注入活力。

——摘编自崔婕《论 18 世纪法国启蒙运动的两种中国观》

材料二

一战后的英国沉迷于 19 世纪欧洲均势政策的成功之中，无视自己力量的衰弱和整个体系已经发生的变化，推行了扶德抑法的政策。它简单机械地以为，欧洲力量的天平向战胜国法国倾斜，那么威胁就主要来自法国。这说明，英国在一战后确定国家间的战略利益关系时，仅仅考察了实力关系，而没有认真考虑纳粹德国对于国际秩序的挑战。一战后英国领导人的外交政策一直停留在维持一种“虚幻”的欧洲大陆势力均衡，无视国际体系中已经发生的巨大变化。扶德抑法这样一种错误的政策，不仅没有维护和平，而且带来了它后面持续的对德绥靖政策，把法国和欧洲大陆的许多国家拖入了一场新的世界大战之中。

——摘编自宋伟《位置现实主义：一种外交政策理论》

材料三

在战后初期，法国政府为了恢复与发展经济，大力鼓励外国资本流入。在 60 年代初期，法国为了实现经济现代化，继续采取鼓励外资的方针，尤其是美国资本。但是从 1963 年开始，法国政府对于外资，尤其是美国资本开始转变态度，采取限制措施。这一政策是法国摆脱美国控制，维护法国独立这个大政策的有机组成部分。法国在抵制美国经济渗透上，主要采取了两手政策。一手是限制美国资本的投资部门与额度，规定外国资本不得在法国任何部门与地区，获得统治控股地位。法国还在欧共体内，呼吁其他国家共同限制美国的资本。另一手是积极鼓励发展法国的科学技术，尤其是尖端技术与工业，这一政策，不仅有助于法国减少对美国的技术依赖，摆脱美国的经济控制，另一方面也极大的提高了法国自身的科技水平，加强了法国企业在世界的竞争力，扩大了法国产品的市场。

——摘编自张媛媛《论戴高乐时期法美关系的两面性》

（1）根据材料一，概括思想启蒙运动在法国发展的主要原因。结合所学，例举 16-18 世纪“东方文化”在法国传播的史实。（8分）

（2）根据材料二，结合所学，指出一战后欧洲国际关系的主要矛盾，从“扶德抑法”政策的影响角度，简析该政策为什么是“一种错误的政策”。（6分）

（3）根据材料三，结合所学，概括法国对美国政策的变化，并分析法国对美政策转变的原因和影响。（6分）

25.阅读材料，完成下列要求。（12分）

2019 年十九届四中全会上，习近平总书记明确指出，“当今世界正经历百年未有之大变局，我国正处于实现中华民族伟大复兴关键时期”。百年变局的到来，与冷战结束以来的国际风云变幻密切相关，与大国兴衰、发展中大国群体性崛起密切相关，与 2008 年国际经济危机催生的西方蜕变密切相关，与新一轮科技革命加速重塑世界密切相关。面对世界大变局，各主要力量加紧内外战略调整，抢占战略制高点，力争在博弈中占据优势，导致国际形势加速深刻演变，不确定性不稳定性凸显。单边主义、保护主义持续上

微信公众号：浙考神墙750 浙江高考墙750 QQ：2754808740

升，国际多边秩序和全球治理体系遭到挑战。世界面临单边与多边、对抗与对话、封闭与开放的重大选择，处于何去何从的关键十字路口。

——摘编自门洪华《中国战略十二讲》

根据材料，结合冷战结束后相关史实，围绕“选择”，自拟题目，写一篇历史小论文，（要求：立论正确，史论结合，史实充分，逻辑清晰，表述成文）