

2023 学年第一学期九年级期末教学质量调研

道德与法治·历史与社会

考生须知：

1. 本科目为开卷考试。答题时可查阅课本及其他材料，但必须独立答题，不能交流材料、讨论问题。
2. 本试卷满分为 100 分，考试时间为 90 分钟。
3. 答题前，在答题纸上写姓名和准考证号，并在试卷首页的规定位置写上姓名和座位号。
4. 必须在答题纸的对应位置上答题，写在其它地方无效。答题方式详见答题纸上的说明。
5. 考试结束后，试题和答题纸一并上交。

试 题 卷

一、选择题（本大题有 26 小题，每小题 2 分，共 52 分。请选出各题中一个最符合题意的正确选项，不选、多选、错选均不给分）

2023 年是共建“一带一路”倡议提出十周年。“一带一路”是一条文明之路，串联起东西方的多元文明。回答第 1-3 题。

1. 方尖碑(如右图所示)是古埃及崇拜太阳的纪念碑，古埃及文明最富有特色的象征之一。碑身所刻文字最有可能是

- A. 甲骨文 B. 象形文字
C. 拉丁文 D. 楔形文字



第 1 题图

2. 右图所示的摩亨佐·达罗城市遗址位于今巴基斯坦，是古代印度文明的代表之一，下列对该遗址介绍正确的有

- ①经过精心规划，有完整的下水道系统
②处于孔雀王朝，展现古印度文明鼎盛
③位于恒河流域，是由雅利安人所创造
④曾经一度繁荣，后来因不明原因衰亡



第 2 题图

- A. ①② B. ②③ C. ①④ D. ③④

3. 古代希腊是欧洲文明的发祥地。下列能帮助我们了解古希腊文明的是



- ①帕特农神庙遗址 ②克里特岛宫殿遗址 ③雅典卫城 ④万神庙穹顶
A. ①②③ B. ①②④ C. ①③④ D. ②③④

4. 人类社会的法制传统源远流长。右边两部法律的共同之处是

- A. 是成文法典
- B. 产生于亚洲
- C. 出现在中世纪
- D. 为了维护平民的利益



5. 《骑士时代：中世纪的欧洲》中写道，“在领主自营地上，阿布拉黑整天忙于耕作，经常出现在他头脑中的是管事和他的助手，他们可以处罚他，甚至鞭笞他。”由此推断，阿布拉黑的身份可能是

- A. 行会学徒
- B. 庄园领主
- C. 城市商人
- D. 庄园佃户


6. 它是一个地跨亚非欧三洲的大帝国；它对东西方文化兼收并蓄，创造出独具特色的文化；它保存了大量希腊、罗马古籍，为后来西欧的文艺复兴提供了丰富的精神营养。“它”是

- A. 亚历山大帝国
- B. 查理曼帝国
- C. 拜占庭帝国
- D. 奥斯曼帝国

7. 阿拉伯帝国繁荣时期，哈里发重视知识，设立“智慧宫”，大量希腊、波斯、印度的典籍被译为阿拉伯文。中国的造纸术等重大发明也是由阿拉伯人传入欧洲的。对此理解正确的是

- A. 阿拉伯文化领先世界
- B. 西方文化与阿拉伯文化同根同源
- C. 阿拉伯人创造了阿拉伯数字
- D. 阿拉伯人担当了沟通东西方文化的角色

8. 下列两幅图片反映出英国政治转型的特点是



16世纪伊丽莎白一世主持议会



1689年威廉和玛丽加冕

- A. 建立了共和制，体现彻底与激进
- B. 推崇君权神授，体现保守与落后
- C. 确立君主制度，体现妥协与倒退
- D. 走向君主立宪，体现传承与创新

9. 18世纪后期，北美的咖啡消费量不断增加，而茶的消费量却在下降。在当地人的心目中，茶成为英国殖民压迫的象征。与这一历史现象联系最密切的是

- A. 光荣革命
- B. 北美独立战争
- C. 攻占巴士底狱
- D. 1787年制宪会议

10. 某同学通过阅读文献探究历史。以下部分法律文献与影响对应正确的是

选项	文献	影响
A	《独立宣言》	宣告了北美 13 个殖民地独立
B	《1787 年美国宪法》	第一个人权宣言
C	《人权宣言》	标志联邦制国家正式建立
D	《拿破仑法典》	预示法国大革命达到高潮

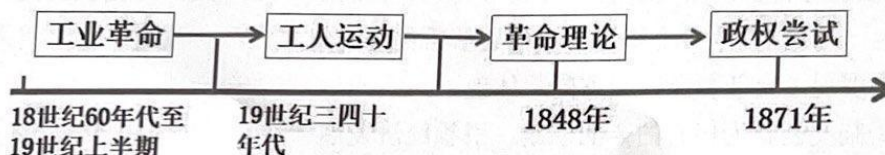
11. 1873 年 12 月伦敦出现了持续一周的大雾。当时一位作家在信中抱怨“我本应继续在伦敦演讲，但雾快要捏碎我的心脏”。这个抱怨

- A. 深刻揭露殖民主义的罪恶
B. 是因为汽车尾气污染环境
C. 源于工厂生产规模的扩大
D. 表现出西方社会阶级对立

12. 在局势风起云涌的近代世界，思想、政治、技术群星璀璨。下列人物与其评价搭配正确的是

- A. 达芬奇——文艺复兴的先驱
B. 华盛顿——分权制衡原则的提出者
C. 拿破仑——法国大革命的复辟者
D. 斯蒂芬森——铁路时代的开创者

13. 某同学通过制作年代尺厘清历史事件的联系。以下信息解读正确的是



- ①工业革命的深入发展，资本主义的弊端逐渐暴露，导致工人运动兴起
②工人运动的兴起，为科学社会主义理论的创立提供必要条件
③1848 年《共产党宣言》发表，标志着马克思主义诞生
④无产阶级有了科学理论的指导，建立了政权——国际工人协会

- A. ①②③
B. ①③④
C. ①②④
D. ②③④

14. 9 月 17 日，联合国教科文组织第 45 届世界遗产大会通过决议，将中国“▲”列入《世界遗产名录》。至此，中国世界遗产数量增至 57 项。

- A. 良渚古城遗址
B. 普洱景迈山古茶林文化景观
C. 鼓浪屿：历史国际社区
D. 泉州：宋元中国的世界海洋商贸中心

15. 11 月 1 日，我国第 22 个自贸区▲揭牌成立，也是我国西北沿边地区首个自由贸易试验区，实施范围 179.66 平方公里。

- A. 广西自贸区
B. 云南自贸区
C. 新疆自贸区
D. 陕西自贸区

16. 对右图漫画解读正确的是

- ①自由的实现，不能触碰法律的红线
②在网络空间，自由不在法律限制中
③严惩网暴行为，法律面前人人平等
④远离网络生活，珍惜公民合法权利



第 16 题图

- A. ①② B. ①③ C. ②④ D. ③④

法治中国，正在路上。一系列法律法规从 2024 年 1 月 1 日起正式实施。回答第 17-18 题。

17. 《中华人民共和国行政复议法》是化解行政争议的重要法律制度，该法律的制定

- ①体现了用制度保障公民合法权益 ②可以消除政府部门不当的行政行为
③捍卫了公平正义的最后一道防线 ④有利于用合法途径对不公平说“不”
A. ①② B. ①④ C. ②③ D. ③④

18. 杭州市政府为进一步减轻困难群众看病就医后顾之忧，出台了《杭州市困难家庭医疗费用负担封顶制的实施意见》，此举有利于

- ①维护公平正义 ②实现同步富裕 ③增进民生福祉 ④共享发展成果
A. ①②③ B. ①②④ C. ②③④ D. ①③④

2023 年 10 月，杭州亚运会顺利闭幕，亚奥理事会代理总干事高度盛赞“杭州亚运会无疑是史上最好的亚运会之一。”回答第 19-20 题。

19. 【亚运之智】杭州亚运会从点燃主火炬圣火的数字火炬人、方便快捷的“智能亚运一站通”、承担赛事讲解和问题解答的智能机器人……为世界级体育赛事的举办展现了全新智能发展方向，体现了

- ①制度创新为核心的全面创新，引领经济发展
②创新的目的是增进人类福祉，让生活更美好
③创新是引领发展的第一动力，坚持创新发展
④只有完全依靠数字科技手段，才能办好亚运
A. ①② B. ①④ C. ②③ D. ③④

20. 【亚运之享】杭州成功打造了亚运史上首个“无废”运动会，下列可以作为“杭州经验”推广的有

- ①场馆实现 100%绿电供应 ②将垃圾分类要求写入亚运村指南
③废旧物料能用尽用 ④为了提高出行效率禁止开私家车
A. ①②③ B. ①②④ C. ②③④ D. ①③④

21. 为着力解决教学改革重点难点问题，探索深化课程教学改革的有效实践模式，教育部在全国设立一批实验区，西湖区成功入选。这体现了

- ①国家对教育提出了更高的要求 ②教育是综合国力竞争的决定性因素
③国家用改革之手激活创新引擎 ④教育是培养创新型人才的根本途径
A. ①②③ B. ①②④ C. ②③④ D. ①③④

22. 中国政府网开展 2024 “@国务院 我为政府工作报告提建议”网民建言征集活动，听取网民对《政府工作报告》和政府工作的意见建议。开展这项活动

- ①扩大了公民的政治民主权利 ②公民可直接参与国家管理
③保障了人民当家作主的权力 ④逐步增强公民的民主意识

- A. ①② B. ①③ C. ②④ D. ③④

2023年是“八八战略”实施20周年。某校九年级同学前往浙江展览馆参观了“大道之行 八八战略”主题展。完成第23-24题。

23.【深耕“试验田”】根据“八八战略”在浙江的实践成果展，解读正确的是

序号	实践成果	新发展理念
示例	城乡居民收入倍差连续8年呈缩小态势，首个实现设区市全国文明城市创建“满堂红”。	协调
①	“千万工程”“蓝色循环”接续荣获联合国地球卫士奖，首个通过国家生态省的验收。	绿色
②	区域创新能力连续13年居全国第5位，成为创新型省份、基本建成科技强省。	开放
③	进出口增量居全国第一，中国（浙江）自由贸易试验区成绩亮眼，积极参与长江三角洲地区交流与合作。	创新
④	助力对口地区的87个贫困县全部如期实现脱贫，城乡居民人均可支配收入分别连续20年、36年居全国第1位。	共享

- A. ①② B. ①④ C. ②③ D. ③④

24.【澎湃“源动力”】秉持浙江精神，体现“干在实处、走在前列、勇立潮头”的内在要求，是贯彻落实“八八战略”、践行习近平总书记赋予浙江新期望的动力源泉。浙江精神

- A. 内涵丰富博大精深 B. 具有鲜明的时代性和先进性
C. 是中华文化的精髓 D. 是当代中国精神的集中体现

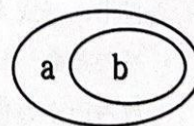
25. 关注重大时政热点，瞄准国家发展大计。下列对新闻事件的微评论正确的是

序号	新闻事件	微评论
①	香港特区政府提出，将不遗余力建立以爱国爱港为核心的主流价值观，成立“弘扬中华文化办公室”。	落实“爱国者治港”原则。
②	《新时代党的治藏方略的实践及其历史性成就》白皮书发布，为建设社会主义现代化新西藏指明方向。	消除了民族差距，实现各民族共同繁荣。
③	中共中央政治局系统部署2024年经济工作，为中国高质量发展掌舵领航。	办好中国的事情，关键在党。
④	我国发布共建“一带一路”未来十年发展展望，指出中国各领域务实合作迈上新台阶。	全面建成小康社会是我们当前的奋斗目标。

- A. ①③ B. ①④ C. ②③ D. ②④

26. 图示法是解释概念间关系的常用方法。下列概念间关系可以用右图表示的有

- ①a 民主管理 b 民主监督
②a 中华文化 b 中华传统美德
③a “五位一体”总体布局 b 生态文明建设
④a 民族区域自治制度 b 基层群众自治制度



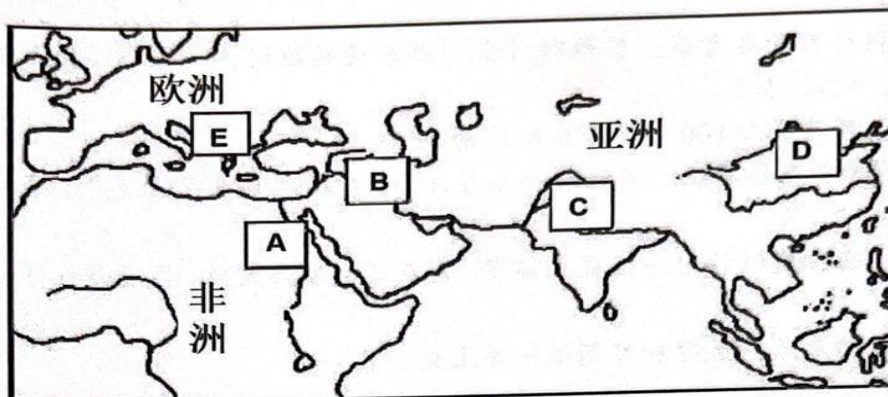
第26题图

- A. ①② B. ①④ C. ②③ D. ③④

二、非选择题（本大题有 4 小题，按序为 12 分、12 分、12 分、12 分，共 48 分）

27.（12 分）文明在交流中发展，照耀着人类不断前行。阅读材料，回答问题。

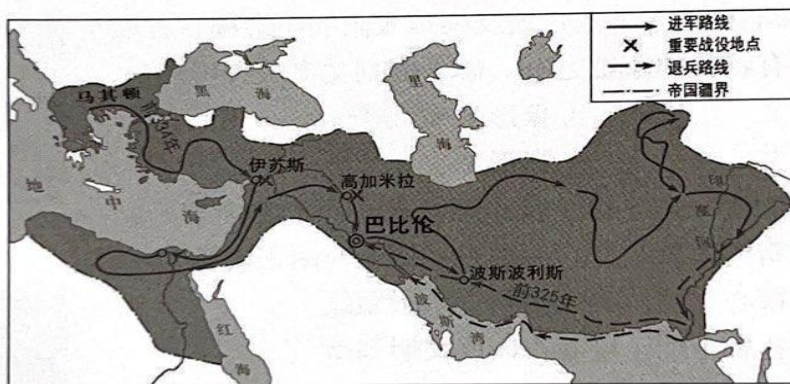
材料一：文明发祥地示意图



(1) 下列文明成果分别诞生于材料一图中哪一文明发祥地？（4 分）

文明成果	佛教	荷马史诗	金字塔	计数法中的 60 进制
发祥地（填字母）				

材料二：历经 10 年征战，一个空前庞大的帝国建立起来了（如下图）。



(2) 材料二中的“征战”是指哪一历史事件？结合所学知识分析该事件带来的影响。（3 分）

材料三：一位日本历史学家宣称：“在我们的文明中，任何看起来本质上属于日本的东西，实际上都是舶来品”。早在 6 世纪，就出现了一个中国的日本。

——法·布罗代尔《文明史——人类五千年文明的传承与交流》

(3) 根据所学知识，指出“一个中国的日本”出现的标志性历史事件。分析该历史事件与材料二所示事件在文明交流的方式上有何不同？（3 分）

(4) 综合上述材料，概括古代文明的特点。（2 分）

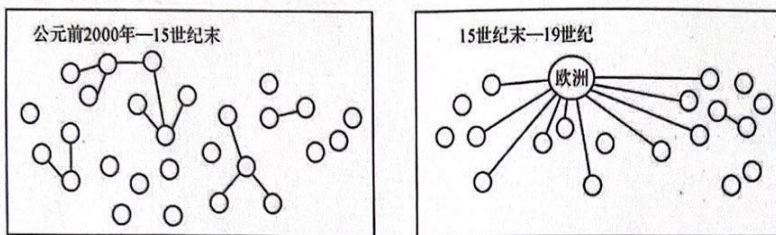
28. (12分) 棉花作为世界性商品,见证了近代资本主义的发展过程。某校九年级同学阅读相关著作并摘录了以下文段。阅读材料,回答问题。

摘录一:12-14世纪,意大利的企业家把原棉预付给周围农村的妇女,雇佣她们纺纱;然后与城市里组织成行会的工匠签订合同,雇佣他们制造棉布……一旦企业家决定从事棉花生产,他们就能利用这些资源。

——摘编自斯文·贝克特《棉花帝国》

(1) 根据摘录一分析这种生产组织方式的特点。企业家关注现世、行动积极的态度反映了14世纪起流行的哪一思潮?(3分)

摘录二:全球棉花生产消费市场的空间变化



*注:图中○代表棉花生产、消费中心

——摘编自斯文·贝克特《棉花帝国》

(2) 根据摘录二,概括全球棉花贸易市场的空间变化,并结合所学知识分析15世纪末出现这一变化的原因。(3分)

摘录三:为了提高生产率,降低劳动成本,英国出现了棉纺织业技术的革新浪潮;还通过政治特权(成立贸易公司)摧毁了印度曾盛极一时的棉纺织手工业,垄断了棉纺织品市场。

——摘编自杨松、马瑞映《内驱与统合》

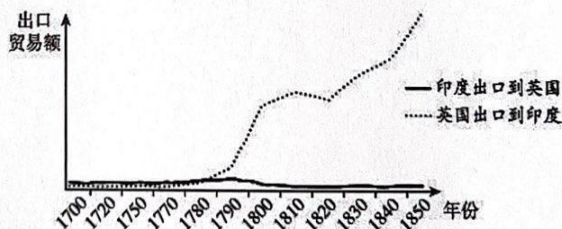


图1:印度和英国之间的棉纺织品贸易

(3) 请结合史实,说明摘录三和图1现象之间的联系。(4分)

(4) 棉花产业的全球化也是世界经济全球化的另一种诠释,“棉花帝国”由此而来。综合上述摘录,概括推动“棉花帝国”形成的因素。(2分)

29. (12分) 2024年1月1日起《中华人民共和国爱国主义教育法》正式施行。某校同学开展了模拟政协活动,请你参与完成提案。

关于进一步加强未成年人爱国主义教育的提案(部分)

【提案人】某初中模拟政协小组

【提案背景】未成年人爱国主义教育尚有改进的空间

【调研情况】部分调研信息摘录

信息一: 应需求·爱国有“法”

立法过程



法律链接

第十五条: 国家将爱国主义教育纳入国民教育体系……并将爱国主义教育内容融入各类学科和教材中。

第三十八条: ……构成违反治安管理行为的,依法给予治安管理处罚;构成犯罪的,依法追究刑事责任。

信息二: 待完善·爱国重“行”

调研过程中,我们发现仍有以下情况存在: 破坏红色教育设施; 民俗文化活动中的秩序不够好; 否定英雄烈士事迹和精神等。

【探究分析】

(1) 根据信息一可见,《爱国主义教育法》的立法过程体现了社会主义民主政治的本质属性是 ▲ , 独特优势是 ▲ 。(4分)

(2) 结合调研信息,运用所学知识分析国家将爱国主义教育纳入国民教育体系的原因。(4分)

【建议对策】

(3) 为更好地开展爱国主义教育,综合上述调研情况,从“厉行法治”的角度提两条建议。(4分)

30. (12分) 杭州被评为“2023年中国最具幸福感城市”，也是全国唯一一座连续17年获此荣誉的城市！九年级某班同学策划了“幸福杭州·向未来”主题成就展，请你一起参加研学。

【展区一：数说蝶变·感受幸福】

2007-2022年杭州市经济发展情况

年份\项目	生产总值 (亿元)	城乡居民 收入倍差	高新技术 企业(家)
2007年	4103.89	2.27	241
2022年	18753	1.71	12677

注：杭州经济总量排名历年稳居全国前列。连续12年入选“外籍人才眼中最具吸引力的中国城市”。

【展区二：文化赋能·解读幸福】

提升文化软实力，擦亮历史文化名城金招牌。
 ◎大力实施宋韵文化传世工程，深挖三大世界文化遗产内涵，打造德寿宫等“网红”文化建筑。
 ◎大力弘扬红船精神、浙江精神和杭州人文精神，文旅融合发展迈出新步伐。
 ◎乘亚运东风，举办文博会等大型节展。

【展区三：互动留言·期待幸福】



杭州人真的太幸福啦！杭州的迅速发展，说明我们已经全面建成了社会主义现代化强国！

研学任务

(1) 根据展区一的材料，概括幸福杭州的发展成就。(4分)

(2) 结合展区二的材料，从“文化赋能”的角度，解读幸福杭州的密码。(4分)

(3) 你是否赞同小龙的观点？运用所学知识说明理由。(4分)