

# 2023 学年第一学期学业水平监测

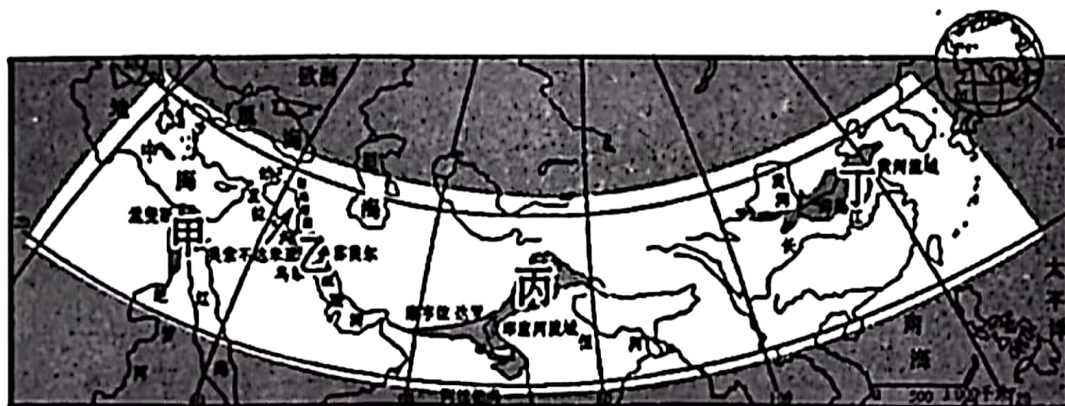
## 九年级 道德与法治·历史与社会

### 考生须知:

1. 本科目为开卷考试。答题时可查阅课本及其他材料，但必须独立答题，不能交流材料、讨论问题。
2. 本试卷分试题卷和答题卡两部分。满分 100 分，考试时间 100 分钟。
3. 答题前，必须在答题卡密封区内填写学校名、班级、姓名、考场号和座位号。
4. 所有答案都必须做在答题卡标定的位置上，务必注意试题序号和答题序号相对应。
5. 考试结束后，请上交试题卷和答题卡。

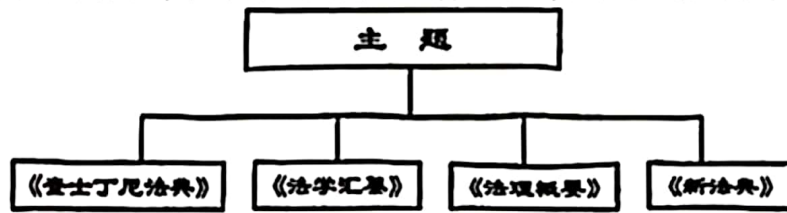
### 一、选择题（本大题有 24 小题，每小题 2 分，共 48 分。请选出各题中一个最符合题意的选项，不选、多选、错选均不给分）

读人类早期四大文明古国区域图，回答第 1-2 题。



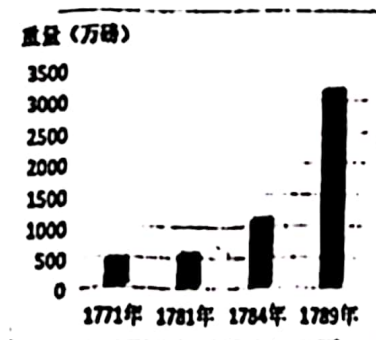
1. 下列区域与文明成就对应正确的是  
A. 甲—空中花园 B. 乙—楔形文字 C. 丙—金字塔 D. 丁—佛教创立
2. 甲和丙在文明发展过程中具有诸多相似点，其中描述正确的是  
A. 起源和发展依托于海洋 B. 外族侵扰未能延续文明  
C. 有等级森严的种姓制度 D. 产生世界性影响的宗教
3. 公元前 18 世纪，西亚地区的一部法典规定：“此后千秋万世，国中之王必遵从我在我的石柱上所铭刻的正义言词，不得变更我所决定的司法判决，我所确立的司法裁定，不得破坏我的创制。”这一规定  
A. 强调了男性家长的绝对权威 B. 宣示了古巴比伦国王的至上权威  
C. 肯定了亚述帝国的法制成就 D. 规范了孔雀王朝对古印度的统治
4. “7 世纪，日本在亚洲拜认了第一位老师……进行了一次重要的改革，解放了社会生产力，促进社会经济的发展。”这次“改革”使日本  
A. 进入镰仓幕府统治时期 B. 走上独立发展道路  
C. 成为中央集权封建国家 D. 允许公民终身用地

5. 公元9世纪，在巴格达的“智慧宫”里，“印度的文献被翻译，希腊人的智慧也被译了出来，还有波斯的文学也翻译了”。由此可知，当时
- A. 阿拉伯帝国统治范围广大                      B. 阿拉伯文化源自于希腊文化
- C. 西亚地区是世界文化中心                      D. 阿拉伯人推动世界文化传播
6. 思维导图有利于从整体上把握知识体系。下图的主题最有可能是



- A. 雅典民主政治的起源                      B. 自由自治城市的诞生
- C. 欧洲民法基础的奠定                      D. 近代民主法治的确立
7. 马克思认为中世纪欧洲的农奴“为自己的劳动和他为地主的劳动在空间上和时间上是分开的”，农奴为封建主的劳动“直接出现在为另一个人进行的强制劳动的野蛮形式上。”对此理解正确的是
- ①劳动的空间指自营地和共用地      ②在自营地服劳役是农奴的基本义务
- ③自营地的全部收入归领主所有      ④此时的农奴和农民拥有一样的权利
- A. ①②      B. ②③      C. ②④      D. ③④
8. 有学者在评价某历史事件时说：“无非是其通过探险活动在世界各大海洋形成了一个单一的航海体系，那就是欧洲人如何控制海洋，并以此为基础将他们的影响力扩展到所有大陆的整个过程。”下列选项中符合该学者评价角度的是
- A. 资产阶级革命的兴起与扩散                      B. 社会从传统到现代
- C. 文明从农耕时代到工业时代                      D. 世界从分散到整体
- 9 “凡未经议会同意，以国王权威停止法律或停止法律实施之僭越权力，为非法权力。”该材料可用于研究
- A. 文艺复兴运动                      B. 法国大革命
- C. 英国资产阶级革命                      D. 美国独立战争
- 10 16世纪，一位意大利诗人在创作时写到：“命运残酷，无奈我自安然如故；生命，荣誉，财富，还有无价的才华；身的美丽，心的优雅；由此相伴，超越永无极限。”这反映了诗人
- A. 强调人的个性      B. 屈从命运安排      C. 相信社会进步      D. 追求理性智慧

11. 右图是18世纪70年代输入英国的原棉重量变化示意图，导致该变化的主要原因是



- A. 英国纺织工人数量增加
- B. 资本主义世界市场形成
- C. 棉纺织领域的发明创造
- D. 工人手工纺纱速度提高

13. 理论指导实践。巴黎公社的建立，这一伟大实践主要源于某一科学理论的指导。这一理论的创立者是

- A. 马克思、恩格斯    B. 亚当·斯密    C. 华盛顿    D. 拿破仑

19. 2023年10月7日至8日，全国宣传思想文化工作会议在北京召开，本次会议首次提出习近平\_\_\_\_\_▲\_\_\_\_\_，意义重大。

- A. 科学思想    B. 文化思想    C. 生态思想    D. 文明思想

14. 2023年10月17日至18日，第三届“一带一路”国际合作高峰论坛在北京成功举办，国家主席习近平发表题为《\_\_\_\_\_▲\_\_\_\_\_》主旨演讲。

- A. 建设开放包容、互联互通、共同发展的世界  
B. 共建合作开放、互利共赢、共生共荣的世界  
C. 建设贸易畅通、资金融通、民心相通的世界  
D. 共建和平合作、开放包容、互利共赢的世界

9月20日，习近平总书记出席杭州亚运会开幕式并先后到金华、绍兴等地考察，为浙江发展指明新方向。阅读材料，回答第15-18题。

15. 【数字点燃的科技之光】杭州亚运会数字点火仪式缔造了亚运史上的首次，在综合性国际体育大赛中也属首创。这惊艳世界的新技术启示我们

- ①制度创新推动社会进步    ②创新就要追求原创  
③必须落实科教兴国战略    ④不断弘扬创新精神

- A. ①②    B. ②③    C. ②④    D. ③④

16. 【“千万”牵挂的乡村巨变】义乌市李祖村是浙江改革开放“千村示范、万村整治”的典范。通过创建美丽生态、美丽经济、美好生活，李祖村从贫困村成为了共同富裕示范村。这体现了

- A. 改革开放是综合国力竞争的决定性因素  
B. 党和政府坚持以人民为中心的发展思想  
C. 共同富裕已实现，社会主义现代化强国已建成  
D. 浙江发展面临的最主要问题是城乡发展不平衡

17. 【“枫桥经验”的创新发展】由诸暨市枫桥镇首创的“枫桥经验”，其内涵是依靠群众进行社会基层治理创新，做到“小事不出村、大事不出镇、矛盾不上交”。下列做法符合其内涵的是

①	宁波警方破获特大电信诈骗案件，涉案1亿余元。
②	杭州组织市民参与“熊猫老人守护队”，排查风险、调解矛盾。
③	绍兴“江大姐”调解室针对社区特点，为周边居民调解邻里、家庭矛盾。
④	嘉兴“民声一键办”实现12345、110与基层自治平台互联互通，群众无论打哪个电话，内部都能无障碍流转。

- A. ①②③    B. ①②④    C. ①③④    D. ②③④

18. 【大运河保护的生动实践】坐落于绍兴的浙东运河博物馆通过高科技实物保存技术保障展陈的品质，立体演绎浙东运河 2500 多年发展演变史。这一保护实践

- ①体现了中华文化的深厚底蕴                      ②加强了沿线的生态环境建设  
③增添了人民群众的文化自信                      ④推动了传统文化创新性发展

A. ①②③              B. ①②④              C. ①③④              D. ②③④

19. 人民网推出 2023 年两会调查，设置社会保障、就业优先、医疗卫生等热词供网友选择，将网友心声带给代表委员，为政府决策提供依据。此举

- ①体现政府致力改善民生，补齐民生短板  
②体现了公民在积极、理性参与民主选举  
③有利于推进政务公开，促进政府依法行政  
④为公民提供建言献策平台，拓宽民主渠道

A. ①②              B. ①④              C. ②③              D. ③④

20. 交警执行公务时佩戴执法记录仪，对执法现场进行取证，有助于

- ①促进公正司法              ②推动依法行政  
③规范执法过程              ④实现科学立法

A. ①②              B. ①④              C. ②③              D. ③④

21. 上城区弯湾托管中心创始人徐琴获得了杭州第一届“杭州慈善楷模奖”，她用“生命影响生命”帮助了很多人。从中我们看到了

- A. 勤劳勇敢、自强不息的奋进品格              B. 孝敬父母、尊敬师长的伦理规范  
C. 诚信守法、见利思义的高尚情操              D. 自尊互敬、助人为乐的和乐风范

22. 2023 年，美丽中国建设交出了亮眼的成绩单：重污染天数下降 93%，成为全球空气质量改善最快的国家；在世界上率先实现荒漠化土地和沙化土地面积“双减少”……这张成绩单背后是

- ①我国追求人与自然和谐共生              ②在开发、利用的过程中作出补偿修复  
③人们不再从自然中获得资源              ④坚持节约资源和保护环境的基本国策

A. ①②③              B. ①②④              C. ①③④              D. ②③④

23. 近年来，我省民宗委、教育厅等单位大力推进各族青少年交往交流交融计划，开展与新疆阿克苏地区百校十万“石榴籽”青少年融情活动。该活动的开展说明了

- A. 我国正实行民族区域自治制度              B. 各民族坚持权利与义务相统一原则  
C. 我省积极维护和促进民族平等              D. 青少年应铸牢中华民族共同体意识

24. 澳门特区立法会 12 月 14 日通过行政长官选举法修订案，该法完善了被提名人等的资格要求规定，在选举层面落实“爱国者治澳”原则。该法的通过表明

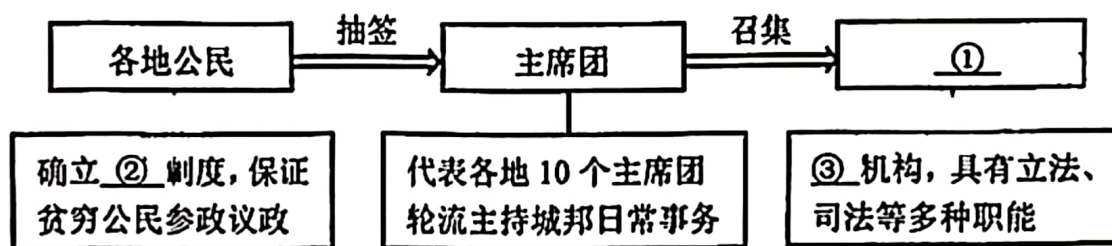
- ①我国坚持一国两制原则                      ②澳门享有高度的自治权  
③通过立法维护澳门稳定                      ④澳门与内地的优势互补

A. ①②③              B. ①②④              C. ①③④              D. ②③④

二、非选择题（本大题有 5 小题，按序为 8 分、8 分、10 分、12 分、14 分，共 52 分）

25.（8 分）古希腊和古罗马文明是西方文化之根。阅读材料，回答问题。

【民主探索】材料一



(1) 将材料一雅典民主政治的思维导图补充完整。(3 分)

【法制建设】材料二 此前的习惯法是口耳相传，含混不清的，司法官……任意曲伸，平民深受其苦。它的出现，使……裁决有了确定和公开的法律条文作为准绳，这在很大程度上限制了贵族的司法专断，是罗马习惯法向成文法转变的重要标志，是罗马法发展的基础。

——郭守兰等《西方法文化史纲》

(2) 写出材料二中“它”所指的法律，并根据材料概括其影响。(3 分)

【文化滥觞】材料三 “光荣属于希腊，宏伟属于罗马”……古希腊和古罗马文明是西方文化的摇篮，是世界文化史上两座永恒的丰碑，是西方人所津津乐道的光辉时代。

——斯托巴特《光荣属于希腊，伟大属于罗马》

(3) 结合所学，举出两例文化成果来论证材料三的观点。(2 分)

26.（8 分）思想是行动的先导。阅读材料，回答问题。

材料一 文艺复兴与启蒙运动是世界近代史上两大思想运动，都为新兴资产阶级取得政治、经济上统治地位作了思想上的准备。如果说文艺复兴所反对的是天主教神学思想，所追求的是现实的幸福的话，那么启蒙运动所反对的是封建专制主义，所追求的是自由平等。

——吴于廑、齐世荣《世界史 近代史编上卷》

材料二

《独立宣言》	《人权宣言》
人人生而平等。他们都从他们的“造物主”那边被赋予了某些不可转让的权利，其中包括生命权、自由权和追求幸福的权利。	法律是公共意志的表现。全体公民都有权亲身或经由其代表去参加法律的制定。……在法律面前，所有的公民都是平等的……

(1) 《独立宣言》被称为“第一个人权宣言”，它与《人权宣言》密切相关。依据材料一、二，归纳二者的共同之处。(4分)

材料三 美国《独立宣言》中原有这样一段文字：“英王侵犯了一个从来没有冒犯过他的远方的民族的人身、神圣的使命和自由的权利，俘虏了他们并把他们作为奴隶卖到另一个半球去，使许多黑人惨死于运输途中。”后来却把这一段删掉了。

(2) 写出材料中所指的以贩卖黑奴为中心的贸易名称。并结合材料，分析《独立宣言》的局限性。(4分)

27. (10分) 党的二十大报告指出：“教育、科技、人才是全面建设社会主义现代化国家的基础性、战略性支撑。阅读材料，回答问题。

材料一 11世纪后，随着经济的发展，许多希腊、罗马的古典著作开始在西欧传播，阿拉伯文化也不断传入西欧。12世纪，西欧的教育与学术出现了新的气象，大学的兴起被认为是中世纪教育“最美好的花朵”。

——齐世荣·《世界历史》九年级上册

材料二

中世纪欧洲大学课程的设置	
基础课程	专业课程
逻辑 算数 几何 天文 音乐	法学 医学 神学

(1) 上述材料中的“中世纪”指什么时期？综合材料一、二，归纳该时期欧洲大学课程设置的影响因素。(4分)

材料三 1662年，英国“皇家学会”成立，它标志着科技发展开始受到国家层面的重视与支持。……英国大学、学院和皇家学会培养出了一批优秀

人才，如蒸汽机的改良者詹姆斯·瓦特以及古典政治经济学的集大成者亚当·斯密等，他们的研究成果不仅促进了社会、经济和科学的发展，也为工业革命的到来提供了资本和技术保障。

——《中国教师报》 英国：科教蓬勃发展催生工业革命

(2) 以材料三中提及的一个人物为例，论证“科教蓬勃发展催生工业革命”这一观点。(4分) 要求：史实详细、论从史出

(3) 综合上述材料，从教育、科技、人才的角度为我国能够全面建设社会主义现代化国家建言献策。(2分)

28. (12分) 从亚运会到“亚运惠”，杭州以实际行动展现城市风采，释放城市魅力。

**【荣耀之城】** 杭州亚运会的成功举办引得世人瞩目。

杭州市经济与社会发展部分指标对比表

	地区生产总值 (亿元)	创新指数排名 (全球)	PM2.5 年均浓度 (微克/立方米)
2017年	13161	85	45
2022年	18753	14	29.6

注：杭州曾先后举办女足世界杯比赛、世界乒乓球巡回赛总决赛和国际马拉松等各类国际重要赛事。

(1) 根据以上信息，分析杭州能够成功举办亚运，成为荣耀之城的原因。(4分)

**【惠民之举】**

**群策群力**

杭州市委办公厅开展“我为亚运献一策”征集活动，广泛征求市民和社会各界意见建议，倾听民意、汇聚民智、凝聚民心。

**场馆利用**

在亚运场馆再利用上，杭州探索多元化、可持续的方式，推动场馆继续惠民开放、综合利用，实现亚运惠民与融入生活的双赢。

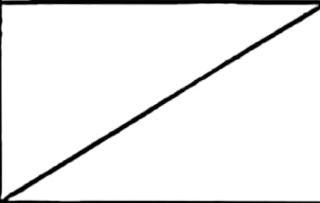
**智慧政务**

杭州市政府打造“智慧杭州”城市管理服务平台，为群众提供高效便捷的政务服务，让群众在指尖上办好事、在短时间内办成事。

(2) “群策群力”体现了公民行使民主权利的哪一形式？联系材料，分析其意义。(4分)

(3) 亚运会也是“亚运惠”。结合材料，在“场馆利用”“智慧政务”中任选一项，运用相关知识进行点评。(4分)

29. (14分) 某校九年级学生参加了“非遗桐庐”研学项目，围绕“新时代非遗传承”的主题，开展一系列研学任务。

研学环节	收集的信息	研究任务
走访非遗传承人	<p>被访者：钟山石雕非遗代表传承人周慧洪，17岁开始就与“石头”打交道。</p> <p>钟山石雕从古代的牌坊雕刻发展而来，早在清咸丰年间就有记载。石狮子、十二生肖等作品远销各地，对当地经济发展起到了积极作用。</p> <p>周慧洪为了传承这项技艺，在村里和中小学开设石雕课程。亚运期间，他还入驻亚运村展示石雕技艺，他觉得他有责任也有信心讲好钟山石雕的故事。</p>	<p>(1) 子任务一： 对非遗技艺的传承凸显了社会主义核心价值观中的哪些价值要求？讲好钟山石雕故事的信心来自于哪里？(4分)</p>
走进非遗产业	<p>桐庐在全省率先建立非遗工坊联盟，制定共富盟约，以非遗工坊带动产业集群发展。</p> <p>以“新合索面”工坊为例，当地村委盘活闲置场地资源，开辟索面非遗工坊。目前新合乡共1000余人从事索面加工制作、销售等相关行业，真是富了家家户户的“钱袋子”。</p>	<p>(2) 子任务二： 运用“共享发展成果”的知识分析非遗工坊联盟能够助力共富的原因。(4分)</p>
了解非遗政策	<p>为对非遗项目创新性发展进行补助和奖励，桐庐出台支持政策，并联合银行推出“非遗工坊贷”。截至目前，企业、传承人成功贷款“非遗工坊贷”共计450万元。</p>	
总结研学成果	<p>(3) 结合上述研学资料，解密推动非遗项目发展的力量。(要求观点明确、逻辑正确。)(6分)</p>	