

2023 学年第一学期期末学业水平测试

九年级道德与法治·历史与社会

考生须知：

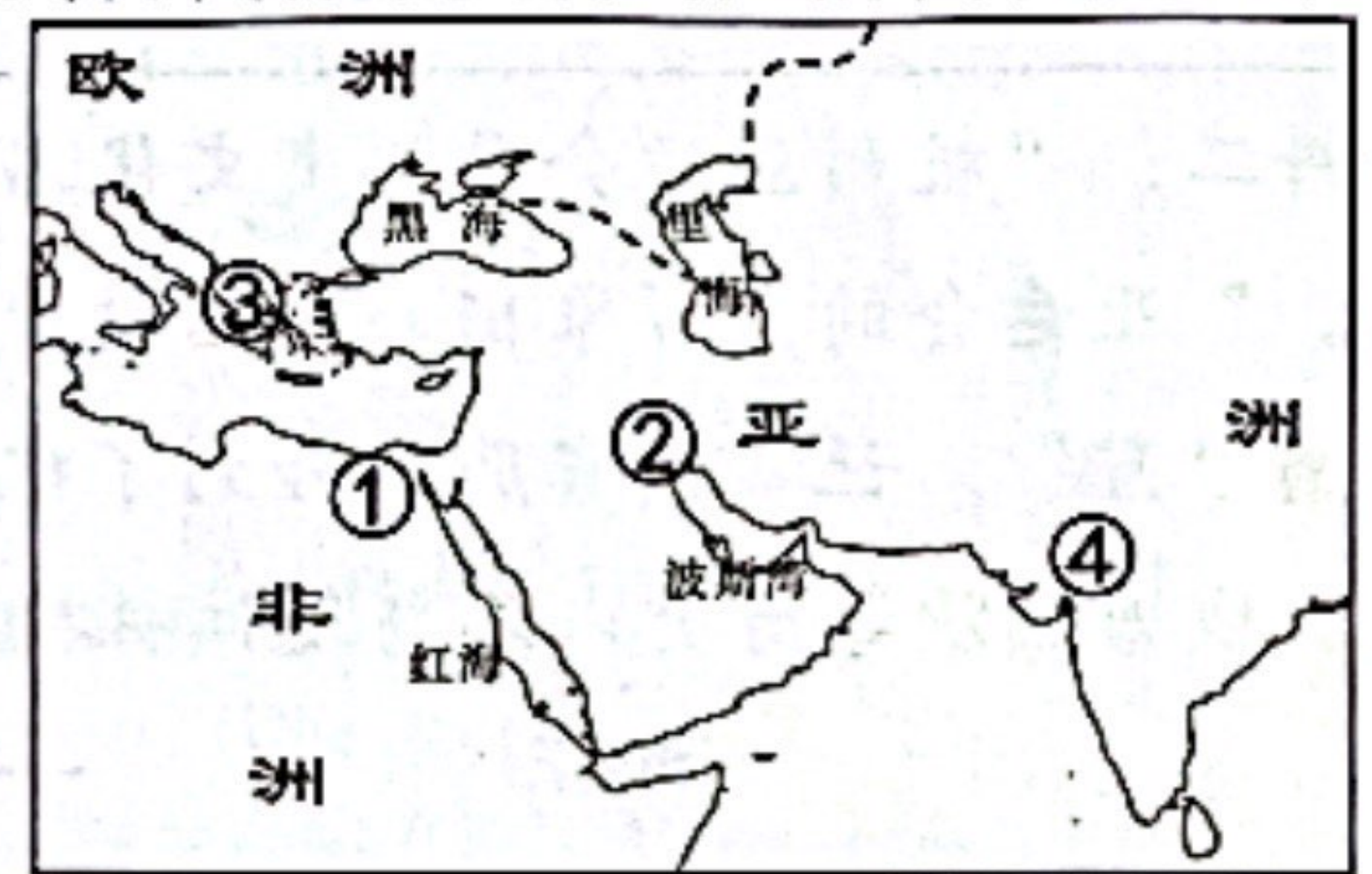
1. 本科目为开卷考试。答题时可查阅课本及其他材料，但必须独立答题，不能交流材料、讨论问题。
2. 本试卷分试题卷和答题卷两部分。满分 100 分，考试时间 100 分钟。
3. 答题前，必须在答题纸指定位置填写学校、班级、姓名、座位号。
4. 所有答案都必须做在答题卷标定的位置上，务必注意试题序号和答题序号相对应。

试题卷

一、选择题（本大题有 20 小题，每小题 2 分，共 40 分。请选出各题中一个最符合题意的正确选项，不选、多选、错选均不给分）

1. 某校史学社开展“多元的文明，多样的世界”主题活动，他们寻找到古代各个文明对应的代表性成果。这些成果与地图中的数字对应正确的是

- A. ①—楔形文字
- B. ②—《罗摩衍那》
- C. ③—帕特农神庙
- D. ④—《十二铜表法》



第 1 题图

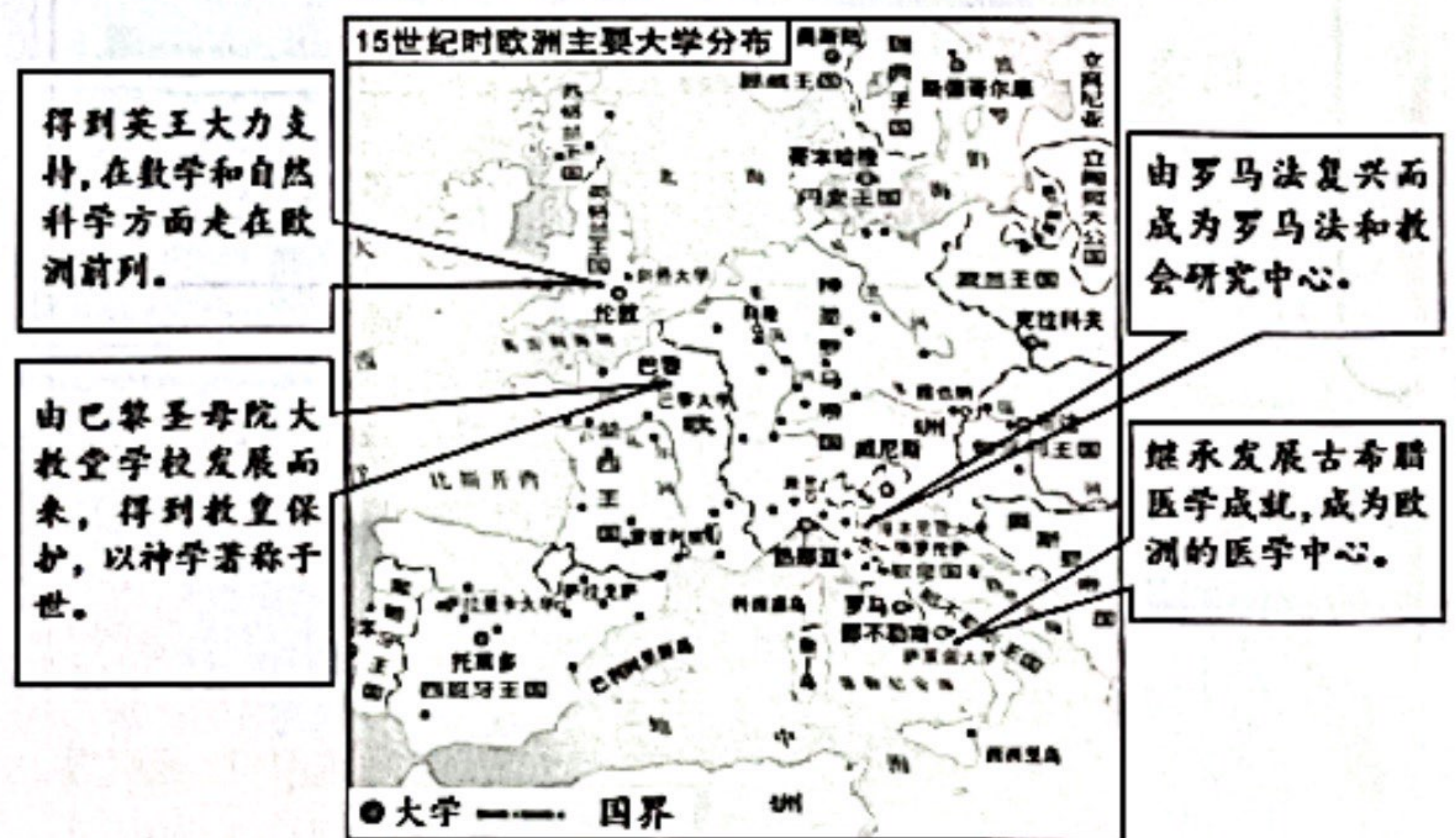
2. 下表是《汉谟拉比法典》的部分条款。根据这些法律条文可知

条目	内容
第 8 条	如果被盗窃的牛、羊等属于寺庙或者皇室，盗窃者将偿付三十倍的赔偿；如果属于国王的公民，盗窃者将作出十倍赔偿；如果窃贼无力赔偿，将以死抵罪。
第 237 条	倘自由民雇用船工，并租赁船舶，船上装载谷物、羊毛、植物油、枣椰子或任何其他货物，倘船工致船沉没，应赔偿船载全部货物。

- A. 古巴比伦王国各社会阶级之间很平等
- B. 法典特别注重保护奴隶主的私有财产
- C. 法规对自由民的处理较为宽松
- D. 古巴比伦王国以农耕经济为主

3. 右图为《15 世纪时欧洲主要大学分布图》。由此可见大学的兴起

- A. 推动了古希腊罗马文化的传播
- B. 完全取代基督教神学统治地位
- C. 导致神学课程都被取消
- D. 都得益于各地教皇支持




第 3 题图

4. 某同学在阅读时整理了如下笔记。他阅读内容的主题是


庄园经济 ↓ 资本主义萌芽	宗教束缚（禁欲） ↓ 人文主义（享乐）	世界各地相对孤立隔绝 ↓ 世界开始连成一个整体
---------------------	---------------------------	-------------------------------

- A. 古代的亚非文明
- B. 灿烂的古代希腊文化
- C. 封建时代的亚洲
- D. 欧洲从封建走向近代

5. 近代科技的发展极大地改变了人们的生产和生活方式，下列影响人类生产生活的科技成就按时间顺序排列正确的是



①



②



③



④

- A. ①②③④ B. ②③①④ C. ②④③① D. ③②④①

6. 英国政府为适应工业社会发展调整法律：1834年颁布《济贫法修正案》，1842年颁布《矿井法》，1844年颁布《工厂法》，1847年颁布《十小时工作日法案》，1849年废除限制贸易的《航海条例》，1876年颁布《河流防污法》。由此可见英国

- A. 注重保护工人阶级权益 B. 利用立法推动工业发展
C. 工业污染得到有效整治 D. 工业革命阻碍对外贸易

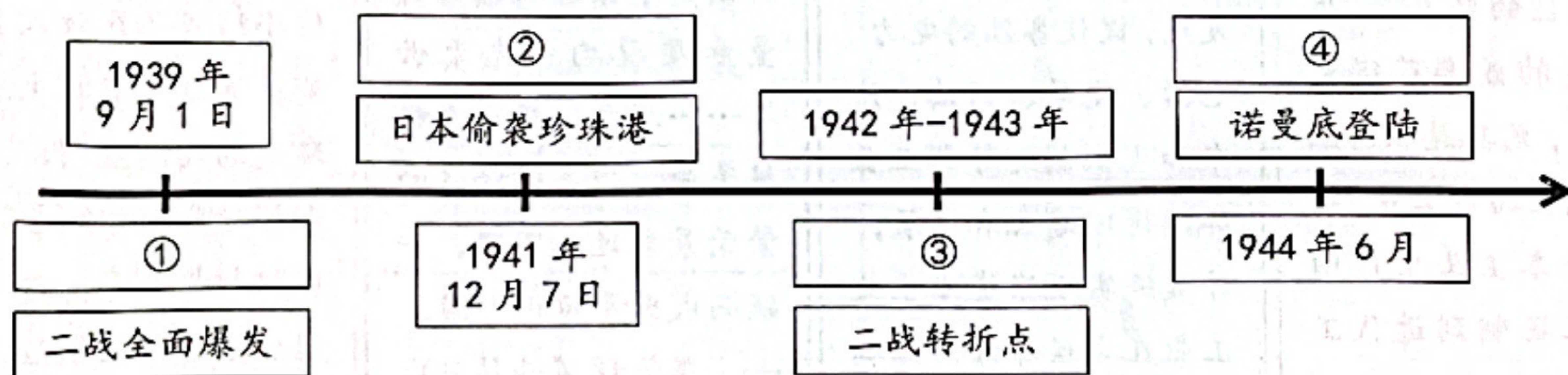
7. 历史上成功改革的共同特点就是符合时代发展的趋势。对比两场改革，下列说法正确的是

改革一的主要内容
以征收粮食税代替余粮征集制；
农民可以自由买卖纳税后的剩余产品；
实行自由贸易；
允许私人经营中小企业等。

改革二的主要内容
整顿金融体系；
复兴工业、调整农业政策；
推行“以工代赈”；
建立社会保障制度。

- A. 都体现了国家对经济干预的加强 B. 都对稳定政权和恢复经济有巨大作用
C. 都注重发展工业以解决就业问题 D. 都通过改革逐步建立了社会保障体系

8. 下图为某同学在学习第二次世界大战的笔记。笔记中空缺内容正确的一项是

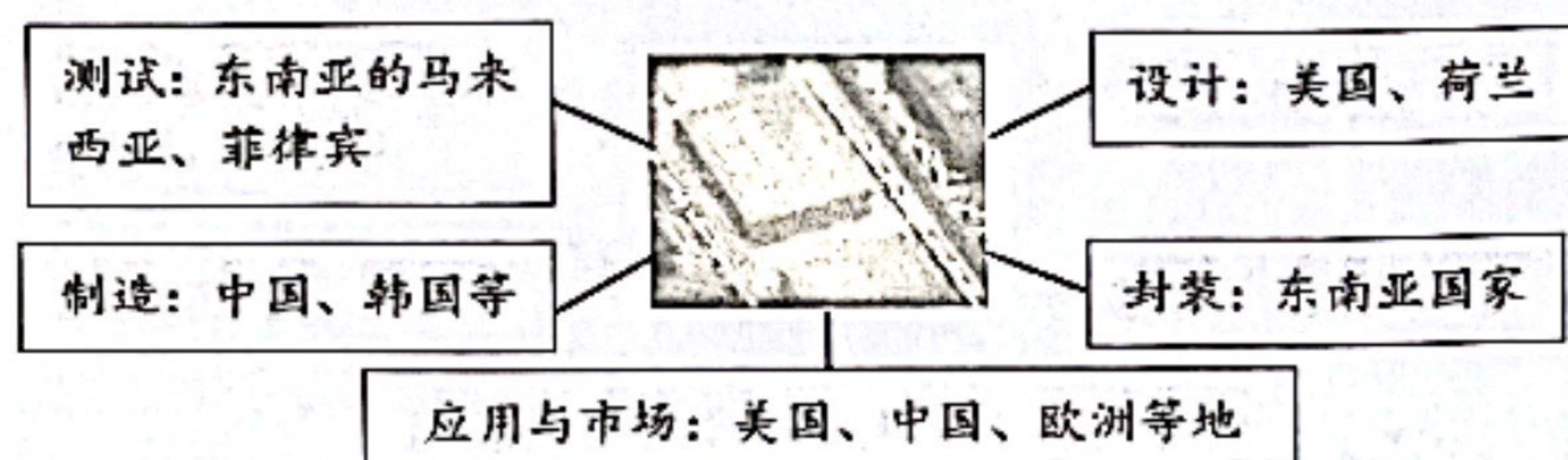


- A. ①萨拉热窝事件 ②二战达到最大规模 ③斯大林格勒战役 ④二战胜利结束
B. ①九一八事变 ②世界反法西斯同盟形成 ③凡尔登战役 ④扭转整场战争局势
C. ①凡尔登战役 ②二战达到最大规模 ③《联合国家宣言》签署 ④扭转战争局势
D. ①德国突袭波兰 ②二战达到最大规模 ③斯大林格勒战役 ④开辟欧洲第二战场

9. 1946年斯大林发表公开演说称，现代资本主义是新的世界大战的根源。1947年美国杜鲁门发表演说称，一些国家将极权主义政权强加给自由国家人民，破坏了国际和平的基础，从而也破坏了美国的安全。两人的演说反映的实质是

- A. 制度观念产生冲突 B. 冷战的格局已形成
C. 美苏共同反法西斯 D. 美苏维护世界和平

10. 当今世界芯片受全球关注，下图为一枚芯片的制售过程。芯片的制售反映出



- A. 经济全球化趋势 B. 欧洲一体化进程 C. 世界多极化趋势 D. 世界贸易组织建立

11. 2023年10月24日，十四届全国人大常委会第六次会议表决通过了《中华人民共和国▲》。制定该法对于振奋民族精神、凝聚人民力量，推进强国建设、民族复兴具有重大而深远的意义。

- A. 反间谍法 B. 外国国家豁免法 C. 对外关系法 D. 爱国主义教育法

12. 应美国总统拜登邀约，国家主席习近平于2023年11月14日至17日赴旧金山举行中美元首会晤，同时应邀出席▲第三十次领导人非正式会议。

- A. 世界博览会 B. 亚太经合组织 C. “一带一路”高峰论坛 D. G20峰会

13. 2023年是改革开放45周年。3月，中共中央 国务院印发《党和国家机构改革方案》，充分彰显了我们党将改革进行到底，推进国家治理体系和治理能力现代化的坚定决心。之所以坚持改革开放，是因为

- A. 改革开放是我们一切工作的中心 B. 改革开放实现了中华民族伟大复兴
C. 坚持改革开放是我国的基本国策 D. 改革开放是当代中国最鲜明的特色

14. 高铁很快，体现中国速度；火车很慢，承载中国温度。在社会高速发展的今天，我国仍保留了80多对公益性“慢火车”。对“慢火车”理解正确的有

序号	“慢火车”	火车故事	理解
①	民生便车	“和田玉龙号”列车最低1元的区间票价二十多年从未改变	增进民生福祉、补齐民生短板
②	幸福专车	假期乘坐K48次列车，从杭州到齐齐哈尔，途径46个站点，体验“边走边看”的旅程	满足人民对美好生活的向往
③	致富快车	车厢变身“移动集市”，为农户搭建销售平台	共享发展成果、实现同步富裕
④	文化列车	6072次“慢火车”连续4年举办民俗文化活动，助力传统文化“活起来”	体验节日民俗、提升文化自信

- A. ①②③ B. ①②④ C. ①③④ D. ②③④

15. 2023年8月29日，华为Mate 60 Pro未发先售一机难求，华为突破技术壁垒，坚持自主创新，完成了1万多个零部件国产化，被网友直呼其为“争气机”。这启示我们

- A. 我国坚持创新驱动发展战略，走在创新型国家前列
B. 坚持创新发展是实现民族振兴、社会进步的基石
C. 提升创新能力是企业持续发展之基，市场制胜之道
D. 必须落实科教兴国、人才强国战略，加速国家发展

16. 滨江区民政局于2023年2月启动“全过程民主”协商共治能力提升公益创投项目试点工作。各试点社区协同社会组织积极开展基层民主协商议事实践活动，保证民主参与，促进民主决策。这体现出

- ①有事好商量，众人的事由众人商量是民主真谛 ②民主决策是我国社会主义民主政治的独特优势
③我国的社会主义民主最真实、最广泛、最管用 ④积极参与民主选举，充分发挥参政议政的职能

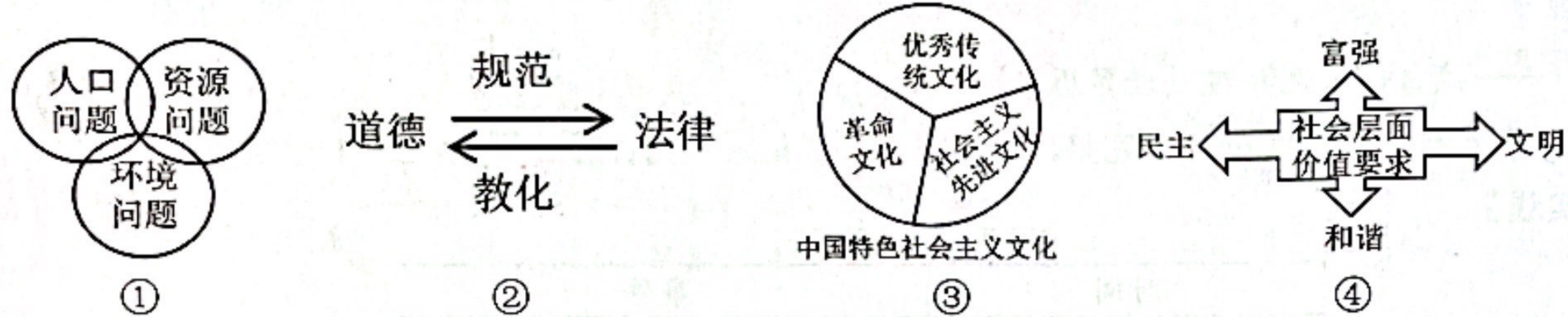
- A. ①③ B. ①④ C. ②③ D. ②④

17. 《孤注一掷》电影的爆火，引发社会各界对网络诈骗的关注，同时对于国家法治建设提出了更多的要求。以下做法能够体现全面依法治国要求的有

- ①十三届全国人大常委会第三十六次会议通过《反电信网络诈骗法》
- ②最高人民法院严格依照相关法律审判电信网络诈骗违法犯罪行为
- ③公安部 2022 年共破案 46.4 万起，缉捕诈骗犯罪头目和骨干 351 名
- ④公民参与“全民反诈”系列宣传活动，使用“国家反诈中心”APP

- A. ①②③ B. ①②④ C. ①③④ D. ②③④

18. 绘制知识结构图可以加深我们对概念的理解。下列图示正确的有



- A. ①③ B. ①④ C. ②③ D. ②④

19. 近期，新疆“海鲜丰收”登上热搜。我国在新疆开展盐碱水域的海鲜养殖，帮助养殖户找到适宜的养殖品种，摸索高效的经营模式，多次邀请全国专家来新疆维吾尔自治区指导。让新疆各族群众共享了发展成果，让海鲜成为新疆乡村振兴的“助推器”。这反映我国

- ①实行民族区域自治这一基本政治制度
- ②坚持各民族平等团结共同繁荣的方针
- ③大力支持民族地区的经济社会发展
- ④实行“和平统一，一国两制”的方针

- A. ①③ B. ①④ C. ②③ D. ②④

20. “2023 中国最具幸福感城市（区）”榜单发布，杭州获评为 2023 年中国最具幸福感城市。杭州也成为全国唯一一座连续 17 年获此荣誉的城市。作为杭州小主人，我们应该

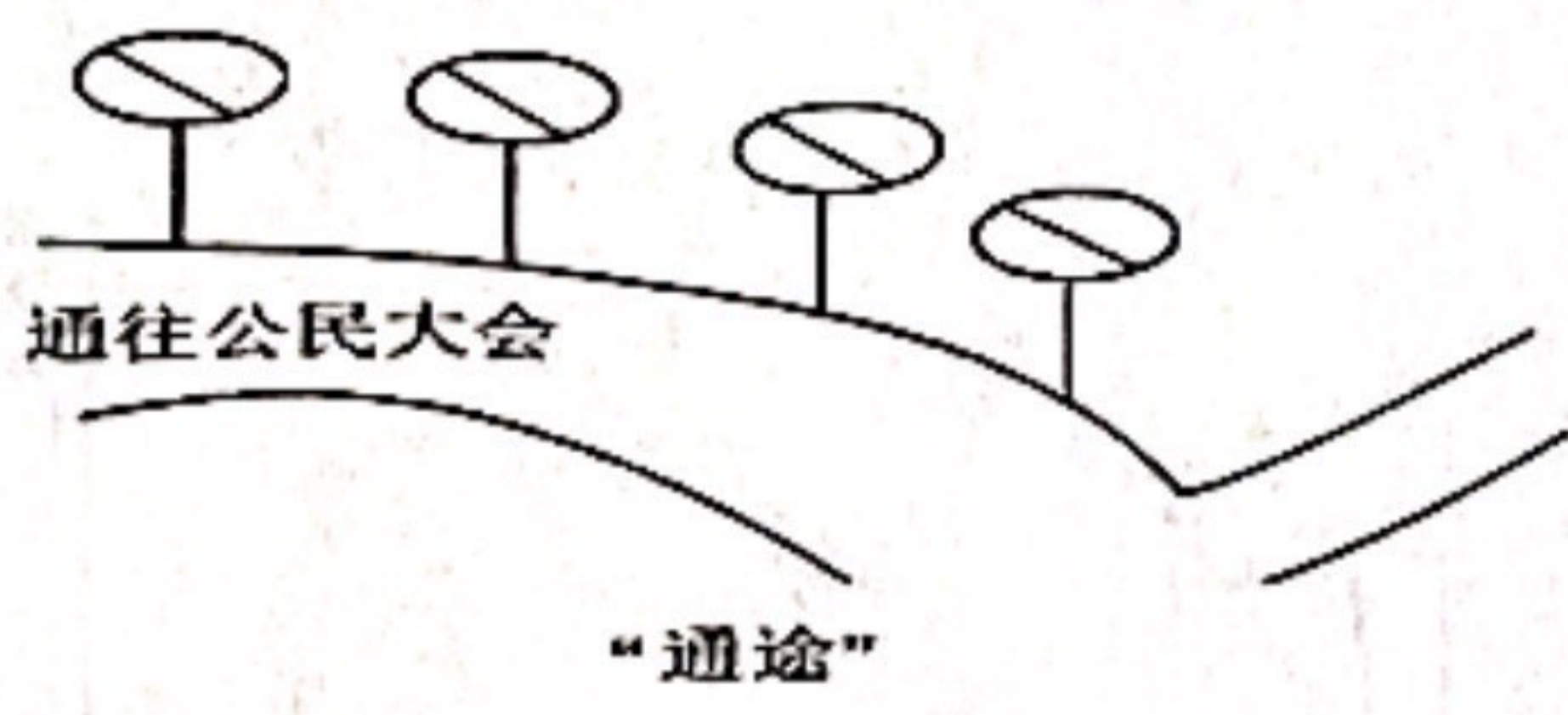
- A. 为社会发展建言献策，直接参与社会管理
- B. 为 2035 年建成社会主义现代化强国而努力
- C. 主动参与，坚持为人民服务，坚持依法行政
- D. 发扬改革创新精神，勤于探索、勇于实践

二、非选择题（本大题有 5 小题，按序为 12 分、10 分、12 分、16 分、10 分，共 60 分）

《共产党宣言》：资产阶级在历史上曾经起过非常革命的作用。……在它不到一百年的阶级统治中所创造的生产力，比过去一切时代创造的全部生产力还要多。九年级某班分组从西方文明的发展去探索近现代世界秩序的变化。

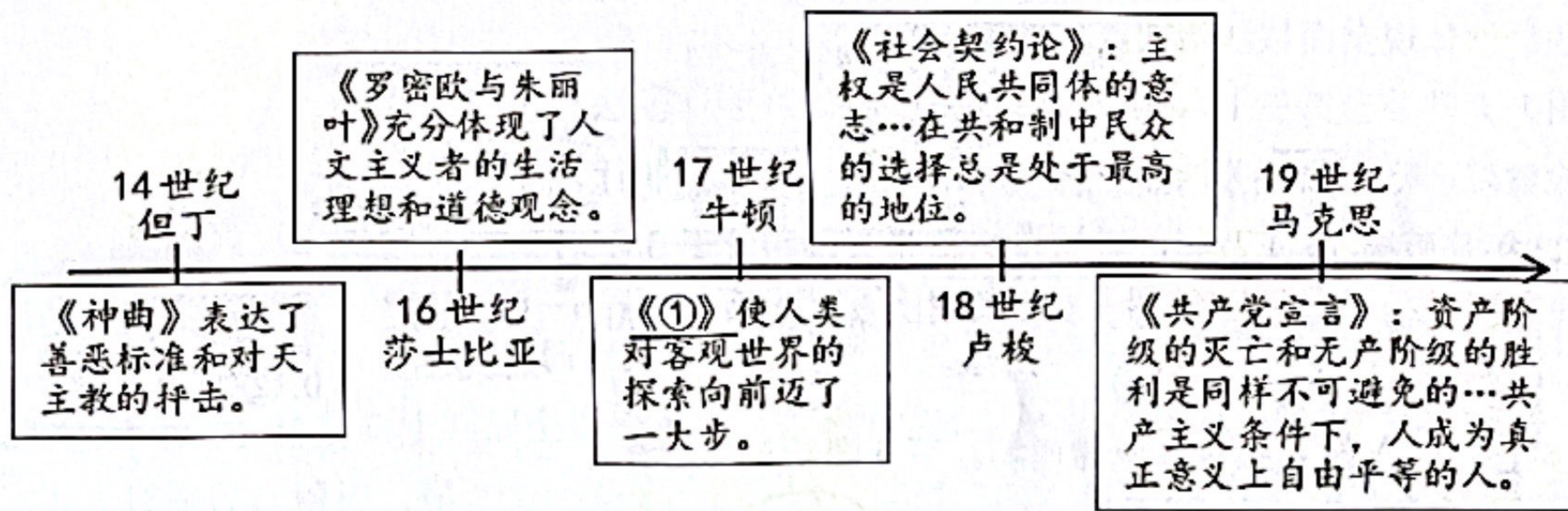
21.（12 分）第一小组决定探究西方政治文明的确立与发展。阅读材料，回答问题。

【民主的摇篮】

古代雅典	近代西方
 <p>通往公民大会 “通途”</p>	<p>“法律面前人人平等”是雅典民主政治运行的基本政治原则。公民大会对国家事务拥有最高的决策权是“主权在民”的集中表现。雅典民主政治所倡导的民主原则和宽泛的自由精神是后来欧洲自由民主的基础和滥觞。</p> <p>——蒋云芳等《雅典民主政治的特征及对西方民主的影响》</p>

(1) 结合所学知识，写出伯利克里为实现“通途”采取的举措。根据两则材料，说明古代雅典民主政治对近代西方民主政治的影响。（3 分）

【思想的先声】



——摘自部编九年级《世界历史》上册、下册，卢梭《社会契约论》，马克思《共产党宣言》

(2) 请将上图年代尺中的①处补充完整。根据材料，概括近代西方思想领域发生的变化。(5分)

【制度的实践】

时间	事件
1566年	尼德兰(荷兰)革命
1688年	英国光荣革命
1775-1783年	美国独立战争
1789-1794年	法国大革命
1799年	颁布《拿破仑法典》体现自由平等和私有财产神圣不可侵犯
1861年	俄国农奴制改革
1861-1865年	美国南北战争
1861年	意大利确立君主立宪制
1864年-1871年	德国统一
1868年	明治维新
1912年	中华民国南京临时政府建立
1917年	十月革命

(3) 根据表格内容，在下列主题中任选其一，结合所学知识展开论述。(要求：史论结合，条理清楚，结构完整)(4分)

- ①西方民主制度确立具有多样性
- ②十九世纪资本主义制度不断扩展

22. (10分) 第二小组围绕“近代世界是如何逐渐形成一个整体的？”这一问题，展开对近代西方经济发展的研究性学习。阅读材料，回答问题。

【打破隔离的坚冰】材料一：



图一 15世纪的世界地图



图二 16世纪的世界地图




图三 16-19世纪世界主要贸易路线和白银流向示意图

——图片摘自部编《中外历史纲要》下


(1) 根据材料一，写出推动人们对世界的认识从图一向图二转变的历史事件，并结合所学知识说明 16 世纪后世界贸易发生的变化。(4 分)

【走向整体的世界】

材料二：



1825 年斯蒂芬森试验蒸汽机车



早期汽车

工业高速发展引起垄断、跨国组织(公司)的产生，推动了资本主义加强殖民扩张，出现了瓜分世界的狂潮。一方面加剧了欧洲列强之间的矛盾，另一方面把更多的亚、非及拉美国家纳入资本主义体系。

——摘编自齐世荣《世界史》

(2) 根据材料二和所学知识，分析工业革命是如何改变世界的。(4 分)

(3) 综合上述材料，请总结推动世界逐渐形成一个整体的因素。(2 分)

23. (12 分) 第三小组就近现代西方主导的世界所遇到的困局展开思辨，并提出突破困局的中国方案。阅读材料，回答问题。

【打破世界秩序】

材料一：(一战后)列强试图把各自的厌战情绪转化为一种新型的和平国际秩序……虽然几乎所有国家都参加了这些新机制，但事实证明没有一个国家愿意确保这些规定得到强制执行。……为摆脱约束，从这一新秩序退出的大国专为自己划出了可以肆意妄为的新空间。

——摘编自基辛格《世界秩序》


(1) 根据材料一，写出“新型的和平国际秩序”所指的是哪一体系。结合史事说明“从这一新秩序退出的大国”是如何为自己划出新空间的。(4 分)

【未来国际关系】

材料二：



美国轰炸南斯拉夫联盟共和国



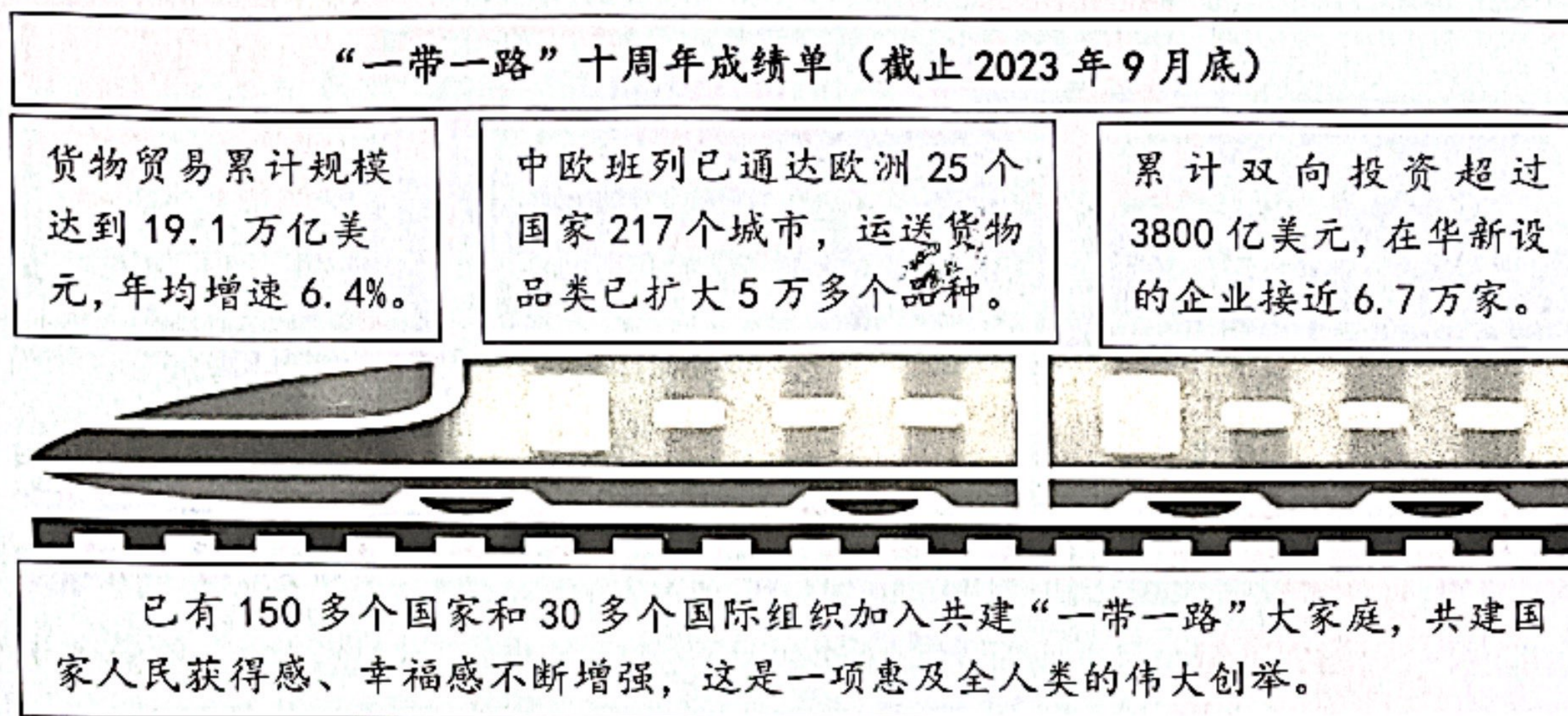
“9·11”事件中被撞大楼

和平与发展仍是时代主题。世界多极化和经济全球化作为当前人类发展阶段的重要趋势，其发展进程存在不平衡和矛盾的现象。

——《中俄关于 21 世纪国际秩序的联合声明》

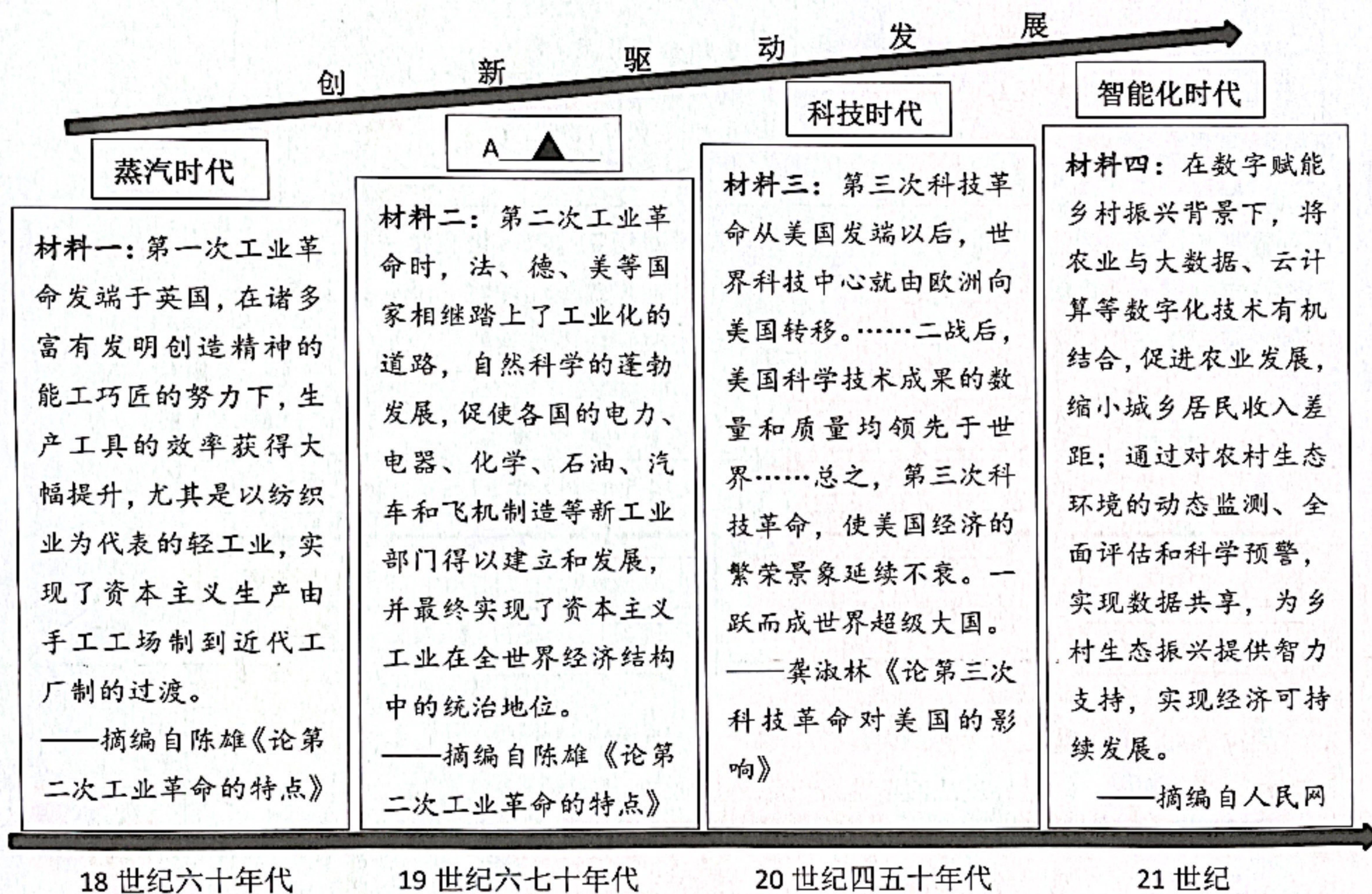
(2) 根据材料二，概括当今世界多极化进程面临的主要挑战，并据此阐述你认为建立新型国际关系需要的基本原则。(4 分)

【贡献中国智慧】



(3) 运用改革开放的知识，阐述“一带一路”的意义。(4分)

24. (16分) “抓创新就是抓发展，谋创新就是谋未来。不创新就要落后，创新慢了也要落后。”主动迎接第四次工业革命将成为中国实现弯道超车的机遇。阅读材料，回答问题。



(1) 请将A处补充完整。根据材料一、二概括两次工业革命特点的变化。(4分)

(2) 列举相关史实，从创新角度论述在历次工业革命中如何体现“创新驱动发展”。(6分)

(3) 我国数字赋能乡村振兴体现了除创新外的哪两个新发展理念，(2分)结合材料，阐述“数字赋能乡村振兴”的意义？(4分)

25. (10分) 浙江是中国式现代化的先行者。九年级某班同学决定开展以此为主题的议题式学习, 请你一起参与。

总议题: 为什么赋予浙江省“中国式现代化的先行者”的新定位?

子议题一: 全过程人民民主

资料一: 2023年11月2日, 浙江省首家全过程人民民主实践中心在杭州正式启用。中心依托杭州“数智人大”, 设置了市人大代表联络数字总站, 汇集全市702个联络站、1536个联络点的民情民意。确保在民主决策、执行、民主监督等各环节都能听到来自人民的声音。

——摘编自《浙江日报》

(1) “全过程人民民主实践中心”的启用体现了我国社会主义民主的哪一特征? (2分)

子议题二: _____ ▲

资料二: “杭州亚运会是历史文化名城魅力的体验台和催化剂。”亚运会的吉祥象征、场馆设计、古风演出等, 都像一扇扇“窗”, 让各国宾朋体验到了杭州的西湖风光、宋代盛况、钱塘潮汐等历史内涵与现代科技的交织与变迁。

——摘编自《杭州日报》

(2) 仿照子议题一、三, 拟定子议题二。结合资料一、二, 分析浙江成为中国式现代化先行者的实践路径。(6分)

子议题三: 凝聚价值追求

倡议书

奋力谱写中国式现代化浙江新篇章需要我们每一个人的努力。作为杭州小主人, 我们要 _____

(3) 请从子议题三的角度, 续写一段倡议书。(2分)