

# 2023 学年第一学期期末学业水平测试 九年级道德与法治·历史与社会试题卷

考生须知：

- 1.本试卷分试题卷和答题卷两部分。满分 100 分，考试时间 100 分钟。
- 2.答题前，必须在答题卷的规定区域内填写校名、姓名和准考证号码。
- 3.所有答案都必须做在答题卷标定的位置上，务必注意试题序号和答题序号相对应。
- 4.考试结束后，上交试题卷和答题卷。

一、选择题（本大题有 24 小题，每小题 2 分，共 48 分。请选出各题中一个最符合题意的正确选项，不选、多选、错选均不给分）

1. 考古发现是了解历史的重要依据。以下文明成果属于古巴比伦王国的是



汉谟拉比法典石柱（部分）

A.




象形文字

B.



图坦卡蒙法老面具

C.



摩亨佐·达罗遗址

D.

2. 《摩奴法典》规定：刹帝利辱骂了婆罗门，要罚款 100 帕那（银钱单位）。如果是吠舍骂了，就要罚款 200 帕那。要是首陀罗骂了，就要用滚烫的油灌入他的口中和耳中。这一规定出自

- A. 古代埃及                      B. 法兰克王国  
C. 古代印度                      D. 东罗马帝国

3. 右图为《缔结封君封臣关系的仪式》，可以用来佐证

- A. 西欧封建制度出现              B. 罗马共和国的建立  
C. 法兰克王国的建立              D. 查理曼帝国的强盛

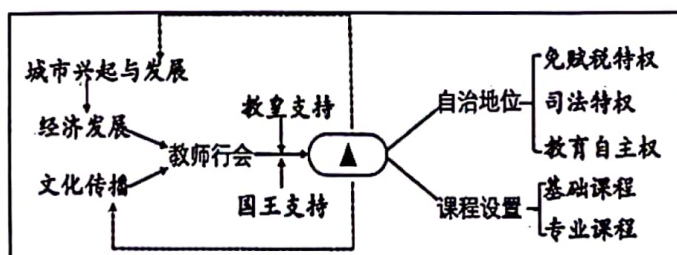


第 3 题图

4. 《人类的故事》中这样描述庄园“中世纪的骑士同时也是拥有田产的乡绅，少有出现必须付钱购置某种物品的情形，他们的庄园里能够产生供他和他们家人的一切物品。”由此推断庄园的特点是

- A. 应有尽有                      B. 自给自足                      C. 禁止买卖                      D. 司法独立

5. 以下是某同学绘制的某一课的知识结构图。其中“▲”应该填写的内容是



第 5 题图

- A. 城邦兴起                      B. 大学兴起                      C. 基督教传播                      D. 城市自治

6. 拜占庭帝国在新皇帝查士丁尼的努力下，罗马法的丰富遗产逐渐被整理成一个和谐的法学体系。体现“和谐的法学体系”的是  
 A. 《罗马民法大全》    B. 《十二铜表法》    C. 《法理概要》    D. 《拿破仑法典》

7. 下图是某同学在学习世界古代史时做的课堂笔记。据此判断，他学习的是

政治形式：哈里发中央集权统治  
 版图：8世纪中期，横跨亚、欧、非三大洲，是当时世界上疆域最大的帝国  
 对外扩张特色：伴随帝国的扩张，伊斯兰教向外广泛传播

- A. 亚历山大帝国    B. 罗马帝国    C. 拜占庭帝国    D. 阿拉伯帝国
8. “……一个新的概念诞生了，那就是‘合众国人民’。新政府、行政首脑的总统、参议员、众议员以及当时新设立的最高法院，都被统称为‘合众国人民的政府’……‘我们各州’改变成了‘我们合众国人民’……”材料所述现象产生的原因是  
 A. 废奴运动的开展    B. 《1787年宪法》的颁布  
 C. 南北战争的爆发    D. 《独立宣言》的发表
9. “1848年，两个德国人向全世界宣告了一种新的社会主义理论诞生，此后，这一理论成为国际无产阶级无比锐利的思想武器。”这一理论诞生的标志是  
 A. 《资本论》的发表    B. 《人权宣言》的发表  
 C. 巴黎公社的建立    D. 《共产党宣言》的发表
10. 某班举行“我心目中的反殖民侵略英雄人物”评选活动，以下人物可作为候选人的是  
 ①华盛顿    ②拿破仑    ③圣马丁    ④克伦威尔  
 A. ①②    B. ③④    C. ①③    D. ②④
11. 史论结合是学习历史的重要方法。以下史实与结论对应正确的是

选项	史实	结论
A.	印度民族起义	结束英国的殖民统治
B.	彼得一世改革	开启俄国近代化进程
C.	日本明治维新	推翻幕府统治，实现富国强兵
D.	美国南北战争	废除农奴制，维护了国家统一

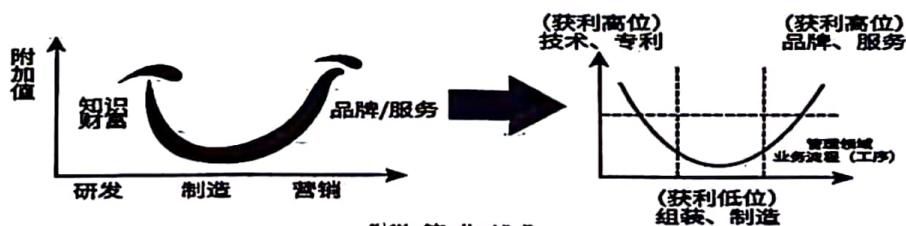
12. 下表是近代欧洲著名文学艺术作品的简介，据此可以得出的结论是

人物	代表作品	作品简介
贝多芬	《英雄交响曲》	首演时间：1805年。气势磅礴，表达出贝多芬对自由、平等和博爱的渴望。
巴尔扎克	《欧也妮·葛朗台》	首版时间：1833年。是一幅法国19世纪前半期的色彩缤纷的社会风俗面。揭露了资本主义社会的罪恶、金钱对人的思想灵魂的腐蚀和摧残。

- A. 作品见证了资本主义制度的扩展    B. 作品见证时代，有时代烙印  
 C. 作品找到了人类解放的正确出路    D. 作品宣告了科学时代的到来



13. 2023年7月4日，国家主席习近平以视频方式出席上海合作组织成员国元首理事会第二十三次会议，本次会议正式接收▲为成员国，至此，上合组织成员国增至9个。  
A. 印度                      B. 伊朗                      C. 埃及                      D. 巴基斯坦
14. 2023年8月15日，是首个全国▲日。它的建设是关系中华民族永续发展的根本大计，是关系党的使命宗旨的重大政治问题，是关系民生福祉的重大社会问题。  
A. 粮食                      B. 土地                      C. 生态                      D. 环境
15. 2023年是中国实行改革开放45周年，改革开放使中国发生了翻天覆地的变化，下列关于改革开放带来的变化表述正确的是  
①逐步确立了社会主义基本经济制度  
②人民群众创造财富的积极性空前高涨  
③确立了社会主义制度，为中国富强、人民富裕奠定坚实基础  
④尊重劳动、尊重知识、尊重人才、尊重创造已成为社会共识  
A. ①②③                      B. ①②④                      C. ②③④                      D. ①③④
16. 新时代我国社会的主要矛盾已经转化为人民日益增长的美好生活需要和不平衡不充分的发展之间的矛盾，下列有利于直接解决这个矛盾的有  
①2023年10月26日神舟十七发射成功                      ②加强财政对民生领域的倾斜  
③杭州从人力物力财力援助四川甘孜州                      ④重视“三农”，促乡村振兴  
A. ①②③                      B. ①②④                      C. ②③④                      D. ①③④
17. 2023年11月，某校举行“科技节”活动，同学们通过参与“科普绘画比赛”“科技小制作小发明比赛”“《我的科创梦》演讲比赛”等一系列活动，培育了科技素养。这一活动  
①正确贯彻了科教兴国战略                      ②说明培养创新人才是国家的中心工作  
③说明人才是全面创新的核心                      ④培养了学生的创新精神和实践能力  
A. ①③                      B. ①②                      C. ③④                      D. ①④
18. 经济学上有一个著名的“微笑曲线”理论：微笑曲线，又称为产业微笑曲线，附加值的高点位于产业链的两端（见下图）。这一理论给企业的启示是



“微笑曲线”  
第18题图

- ①要提升自主研发能力                      ②要提升产品的质量和水平  
③坚持改革开放，积极“引进来”“走出去”  
④增加资金投入，不断扩大生产与制造业的规模  
A. ①②                      B. ①③                      C. ②③                      D. ①④
19. 近年来，电信网络诈骗套路层出不穷，不仅威胁人民群众财产安全，还严重扰乱电信网络管理秩序和社会管理秩序。对此，政府相关部门应该  
①完善法律，推进科学立法                      ②严厉打击，推进严格执法  
③匡扶正义，推进公正司法                      ④加强宣传，推进全民守法  
A. ①②                      B. ①③                      C. ③④                      D. ②④

20. 越剧《新龙门客栈》是基于同名电影改编的戏曲，除了原汁原味的越韵，在舞台布景和转场等方面使用了大量电影技巧，给人耳目一新的视听感受，深受大众喜爱。传统戏曲的出圈生动诠释了中华传统文化

- A. 得到创造性转化、创新性发展  
B. 善于借鉴优秀的外来文化  
C. 海纳百川、有容乃大的包容力  
D. 事关国运兴衰和文化安全

21. 2023年6月2日，习近平总书记在文化传承发展座谈会上强调，中华优秀传统文化有很多重要元素，共同塑造出中华文明突出的连续性、创新性、统一性、包容性、和平性，以下内容能体现这些元素的有

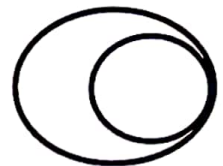
- ①天下为公、天下大同的社会理想  
②民为邦本、为政以德的治理思想  
③修齐治平、兴亡有责的家国情怀  
④党同伐异、主导世界的社会追求
- A. ①②③  
B. ①②④  
C. ②③④  
D. ①③④

22. 2023年11月15日，习近平主席在旧金山同美国总统拜登进行中美元首会晤时提出：台湾问题始终是中美关系中最主要、最敏感的问题，下列关于台湾问题的表述，正确的是

- ①一国两制是两岸关系的政治基础  
②解决台湾问题是中华民族根本利益所在  
③“和平统一，一国两制”是解决台湾问题的基本方针  
④解决台湾问题既要有坚定的原则性，又要有高度的灵活性
- A. ①②③  
B. ①②④  
C. ②③④  
D. ①③④

23. 图示法有助于巩固知识，下列概念间关系可用右图表示的有

- ①民族精神和传统美德  
②中国精神和时代精神  
③民主制度和基本政治制度  
④民主协商和民主决策
- A. ①②  
B. ②③  
C. ③④  
D. ②④



第23题图

24. 2023年9月24日，杭州亚运会女子轻量级双人双桨决赛中，中国队的邹佳琪和邱秀萍获得首金。两双长满老茧的手让无数网友动容，但她们灿烂自信的笑容更令人难忘，充分展示了自信的中国人的形象。自信的中国人应该

- ①理性平和、不卑不亢  
②弘扬中国精神，展现中国风貌  
③不是梦想家而是实干家  
④有与国家民族休戚与共的责任感
- A. ①②③  
B. ①②④  
C. ②③④  
D. ①③④

二、非选择题（有5题，25题8分，26题8分，27题10分，28题11分，29题15分，共52分）

25.（8分）14—17世纪的欧洲逐步走向近代。阅读材料，回答问题。

材料一 文艺复兴时期，西欧社会中人们的各种观念在交锋与消融中渐渐蜕变。……在文艺复兴运动中，那种强烈地珍惜尘世幸福和快乐生活的兴趣逐步显现；正当合理享受则备受推崇，对拥有财富的褒扬不绝于耳。种种进步的社会观念说明：西欧社会已经由粗野、落后向先进、文明社会迈进。

——摘编自肖杰《简述文艺复兴时期……人生观变化》

（1）依据材料一并结合所学知识，指出文艺复兴时期“进步的社会观念”指的是什么？简述文艺复兴运动对欧洲的影响。（4分）

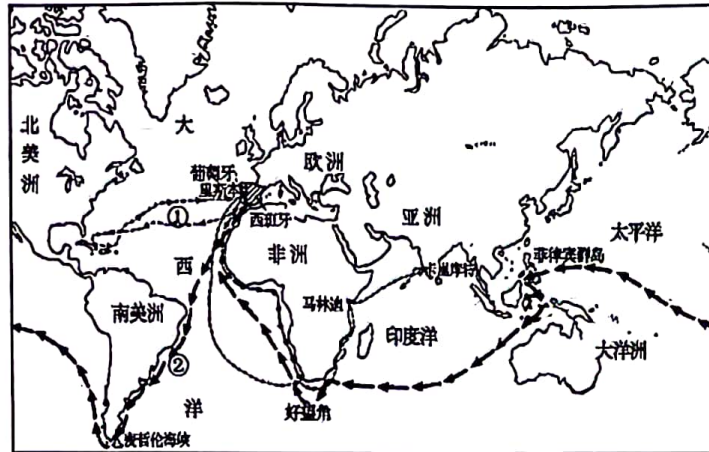




材料二（15世纪30年代）仅仅一个世纪之后，欧洲的航海家们已经发现了我们现在所知世界的大部分地区，并绘制成图。在最早的几次航行中，探险家……首先开辟航线……永远地结束了世界主要文明相互隔绝的局面。

——摘编自杨军等译《人类文明史图鉴：发现新大陆（1400—1500年）》

下图为《新航路开辟》示意图：



材料三 15世纪后，咖啡、烟草、可可等出现在欧洲市场并成为欧洲人喜爱的商品，欧洲的产品如葡萄酒、啤酒和毛纺织品也开始在美洲等市场销售。……16世纪20年代，尼德兰安特卫普成为世界贸易中心和商品集散地。

新航路的开辟拉开了欧洲海外扩张的序幕。此后，他们向亚洲、非洲和美洲进行殖民扩张，掠夺财富、建立殖民地、贩卖黑奴……

——摘编自义务教育《世界历史（上册）》、普通高中《中外历史纲要（下册）》

(2) 写出材料二图中探索①②两条航线的航海家。据材料二材料三并结合所学，简要概述新航路开辟对推动欧洲走向近代所起的作用。（4分）



26. (8分) 历史大事年表汇聚文明发展的历程。读历史年表，探文明发展。

片段一		片段二	
时间	事件	时间	事件
约公元前3500年	两河流域南部出现小国	……	……
公元前3100年左右	统一的古代埃及国家建立	646年	日本大化改新
约公元前23年	南亚出现古代印度文明	1453年	拜占庭帝国灭亡
约公元前2070年	中国夏朝建立	1640—1689年	英国资产阶级革命
约公元前8世纪	希腊城邦开始兴起	1775—1783年	美国独立战争
公元前509年	罗马共和国建立	1789年	法国大革命爆发
……	……	……	……

——摘编自九年级世界历史大事年表（上）

(1) 阅读“片段一”历史大事年表，写出古代埃及文明的发祥地是\_\_\_\_\_▲\_\_\_\_\_流域，欧洲文明的发祥地是\_\_\_\_\_▲\_\_\_\_\_。（2分）

(2) 围绕“推动文明发展的因素”主题，选择“片段二”中2个相关历史事件，自拟一个观点并进行阐述。（要求：观点明确，史论结合，逻辑清晰。字数160-180左右。）（6分）



27. (10分) 某中学举行一次科技节活动，九年级某班历史兴趣小组承担了“工业革命”为主题的部分筹备工作，先后开展下列任务。

**【任务一 收集与整理资料】**

	第一次工业革命	第二次工业革命
开始时间	18世纪60年代	19世纪六七十年代
标志	蒸汽机的普遍使用	②▲和内燃机的广泛应用
重要发明	①▲(人物)---珍妮机 瓦特---改良蒸汽机 斯蒂芬孙---火车	法拉第(英)---发现电磁感应现象 海厄特(美)---赛璐珞的制造技术 门捷列夫(俄)---元素周期表 戴姆勒(德)---汽油内燃机
生产组织形式	现代工厂制度	垄断组织
主要特点	首先发生在英国；发明的机器主要在轻工业领域；机器的发明者大都是具有实践经验的工人和技师，新机器的科技性不高。	③_____▲_____

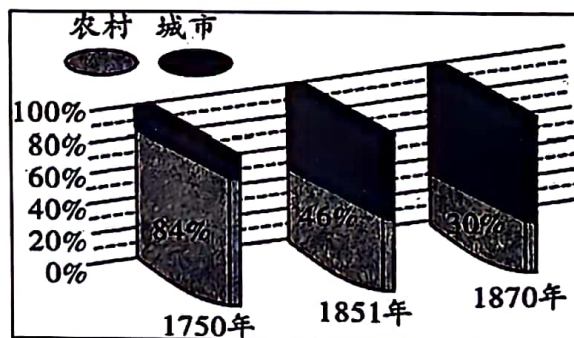
(1) 请将资料补充完整：①\_\_\_\_\_▲\_\_\_\_\_ ②\_\_\_\_\_▲\_\_\_\_\_。

③\_\_\_\_\_▲\_\_\_\_\_。(4分)

**【任务二 分析与探究资料】**

为探究工业革命产生的影响，兴趣小组搜集到以下材料：

材料A：第一次工业革命后，英国城市人口与农村人口的比例变化



材料B：工业巨头和企业家简直富可敌国，其强大的实力使军事贵族和其他传统的特权阶层黯然失色。接下来是中产阶级……在工厂与矿山中辛苦工作的劳工大众形成了新的工人阶级……

——《新全球史》



材料 C: 某时期世界工业发展指数及世界贸易指数和贸易总额

年份	世界工业发展指数 (以 1913 年为 100)	世界贸易指数 (以 1913 年为 100)	世界贸易总额 (单位: 10 亿法郎)
1850 年	9		
1860 年	13		
1870 年	20	24	45.5
1880 年	27	36	68.8
1890 年	41	49	94.2
1900 年	59	68	118.2

——摘编自吴于廑、齐世荣《世界史》

材料 D: 右图为 1855 年的一幅石版画, 画上是英国谢菲尔德拥挤的房子和高耸的工厂烟筒。那时谢菲尔德的人口增长了 500%, 达到了 135000 人。



(2) 任选上述二则材料, 结合所学, 概括工业革命的影响。(4 分)

### 【任务三 认识与感悟】

这个时期(19 世纪后半期)更多的先进工业企业……通过精心的有计划的试验来追寻这种技术创新……科学盈利的真正神秘性在工业中的成长孕育已经达到了这样一种程度, 以至于企业都开始资助基础研究和应用研究。

——[英]哈巴库克、[英]波斯坦主编, 王春法等译《剑桥欧洲经济史》第 10 卷

(3) 工业革命开启了世界工业化浪潮。从这段材料中你获得了怎样的启示?(2 分)

28. (11 分) 民以食为天, 食以安为先。阅读材料, 回答问题。

材料一: 全国两会期间, 国家各部委主要负责人站到“部长通道”, 回答记者就人民群众最关心的问题的提问, “直面问题, 回应关切”是两会的一大亮色。2023 年 3 月 7 日下午, 十四届全国人大一次会议部长通道中, 国家市场监督管理总局局长罗文在回答记者关于食品安全的提问时指出: 食品安全是老百姓最关心的民生问题, 保证人民群众一日三餐的饮食安全是市场监管部门的重要职责。

(1) 全国两会体现了我国哪两项政治制度?(2 分)

(2) 运用所学知识, 说明国家各部委“直面问题, 回应关切”的必要性。(2 分)

材料二: 2023 年央视 3.15 晚会曝光了某品牌“泰国香米”并非来自泰国, 而是香精勾兑而来。香精属于人工合成的化学物质, 对人体的危害不可小觑。

(3) 食品安全无小事。请运用“厉行法治”知识谈谈如何守护“舌尖上的安全”。(7 分)

29. (15分) “办好一个会，提升一座城”。近距离感受亚运精彩后，某校九(2)班同学搜集了以下资料，展开了探究活动，请你积极参与，完成下列任务。

材料一：关于“你眼中的杭州亚运会”，众说纷纭。

序号	观点摘录
A	绿色的盛会，让之江大地满眼“亚运绿”
B	智能的盛会，使赛场内外尽显“科技范”
C	惠民的盛会，让大街小巷涌动“健身潮”（还馆于民，面向大众开放）
D	……

(1) 请结合所学知识，填写ABC观点分别体现的发展理念。(3分)并说说你眼中的杭州亚运会。(2分)

材料二：2016年4月9日，杭州亚组委正式成立，在党中央、国务院亲切关怀下，国家、省、市层面分别建立指挥组织体系，确保各项筹办工作扎实有力推进。

材料三：2018-2022年杭州市全市生产总值及增速图



(注：2018-2022年杭州市全市生产总值及增速均位居全国城市的前列)

材料四：“建议用优美的文字介绍地铁站名的典故”“是否可以设计开发一款沉浸式、互动型传播平台——《我看亚运》APP?”“要扩大志愿者队伍，做强做实志愿服务，让来宾感受杭州的热情”……

——来自“我为亚运献一策”活动的建言献策

(2) 亚运会的成功举办得益于许多因素，从以上同学们搜集到的材料分析杭州亚运会取得成功的原因。(6分)

材料五：2023年11月24日，2023年度“中国最具幸福感城市”推选结果揭晓，杭州成为唯一一座连续17年荣获“中国最具幸福感城市”称号的城市。幸福，源自环境之美，创新之美，也源自文化之美。硬件，是杭州文化之美秀出的“肌肉”。坐拥三大世界遗产的杭州，文化家底雄厚，拥有52家市属国有博物馆，近年来更是涌现了杭州国家版本馆、南宋德寿宫遗址博物馆等一大批叫好叫座的“网红”文化建筑；亚运会开幕式上，杭州的文化之美通过“潮起亚细亚”这一主题，以光影、律动、影像甚至香味等形式一一呈现。亚运会后，中国戏剧节、文博会展等大型节展接踵而来，紧乘亚运东风，将杭州的文化之美送达更远的地方。

(3) 你认为杭州的幸福密码之——文化之美，对铸就中华文化新辉煌有何启示?(4分)