

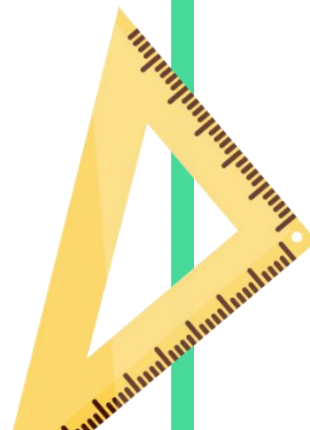



第三单元

整理与复习



$$\begin{array}{r} 43 \\ - 32 \\ \hline 11 \end{array}$$



叶润秋






$$1 + 1$$

$$3 + 1$$

$$0 + 1$$



$$4 + 1$$

$$2 + 1$$

数学

采荷



你能按顺序排列吗？

- ① 自己先想一想
- ② 拿出卡片排一排

$0 + 2$

$3 + 2$

$0 + 3$

$2 + 3$

$1 + 3$

$1 + 2$

$2 + 2$



你能按顺序排列吗？

- ① 自己先想一想
- ② 拿出卡片排一排

$$\square + 2$$

$$0 + 2$$

$$1 + 2$$

$$2 + 2$$

$$3 + 2$$

$$3 + 2$$

$$2 + 2$$

$$1 + 2$$

$$0 + 2$$

$$\square + 3$$

$$0 + 3$$

$$1 + 3$$

$$2 + 3$$

$$2 + 3$$

$$1 + 3$$

$$0 + 3$$

从小到大

0 +					
① +	0 + 1				
② +	1 + 1	0 + 2			
③ +	2 + 1	1 + 2	0 + 3		
④ +	3 + 1	2 + 2	1 + 3	0 + 4	
⑤ +	4 + 1	3 + 2	2 + 3	1 + 4	0 + 5

数一数，每组算式有几个？



猜一猜，会有几个算式？



⑤ 6个

5个

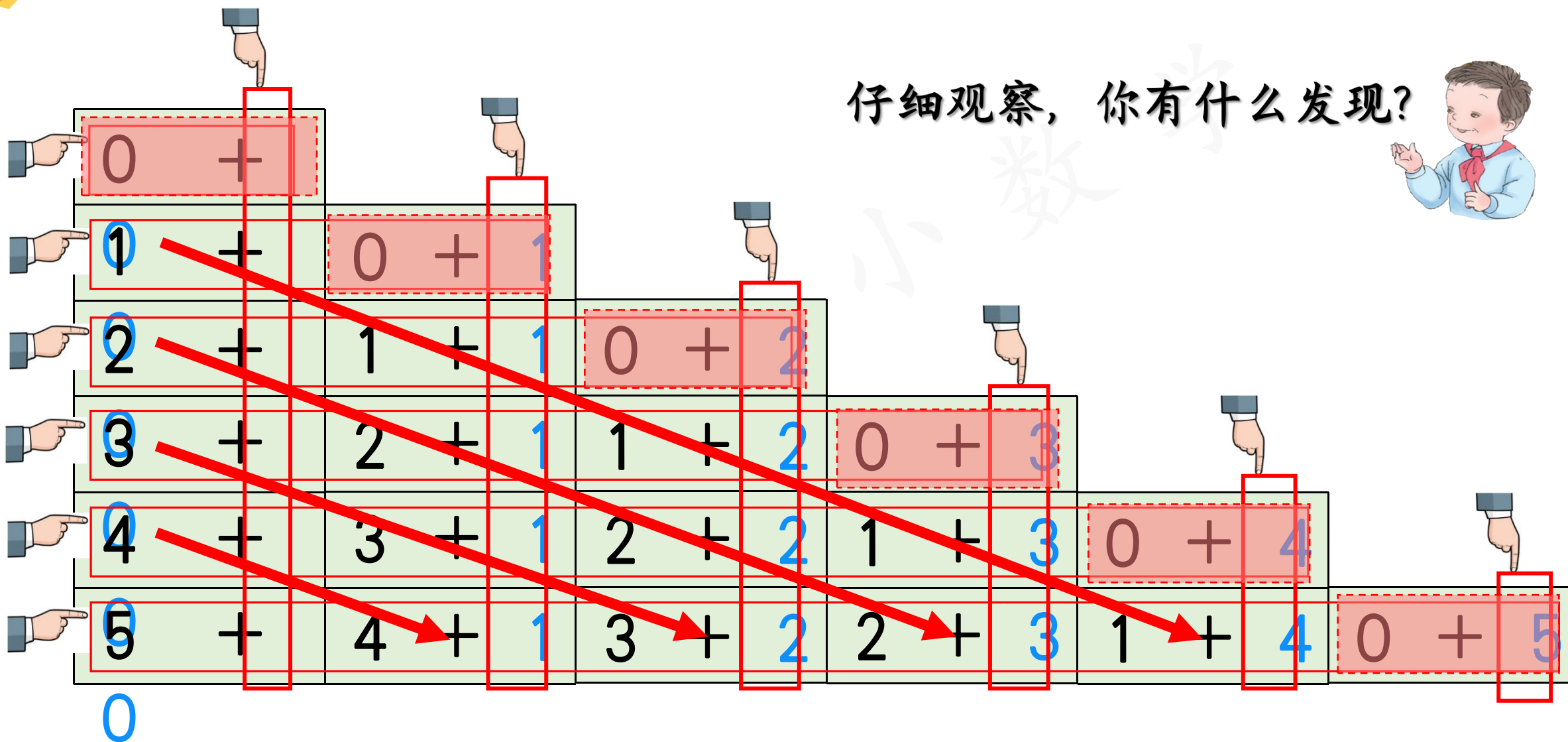
4个

3个

2个

1个

仔细观察，你有什么发现？



填一填

$2 + 1$	$1 + 2$
$3 + 1$	$2 + 2$

	$0 + 3$	
$2 + 2$	$1 + 3$	$0 + 4$
	$2 + 3$	

想一想，说一说

0 +	0 + 1	② 0 + 2	0 + 3	0 + 4	0 + 5
① 1 +	1 + 1	③ 1 + 2	1 + 3	⑤ 1 + 4	
② 2 +	① 2 + 1	2 + 2	④ 2 + 3		
③ 3 +	3 + 1	3 + 2			
④ 4 +	4 + 1				
⑤ 5 +					

0